



Dibuja la ficha que falta.

Ejemplo

1

2

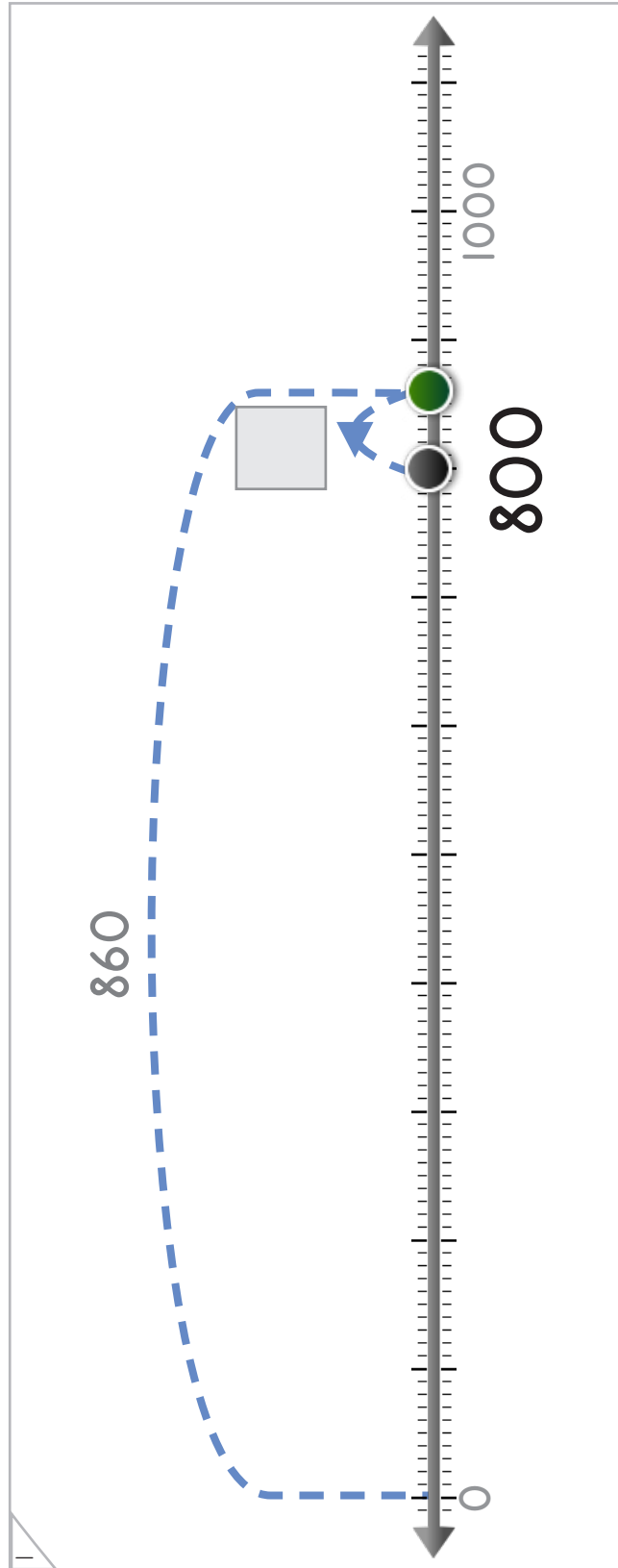
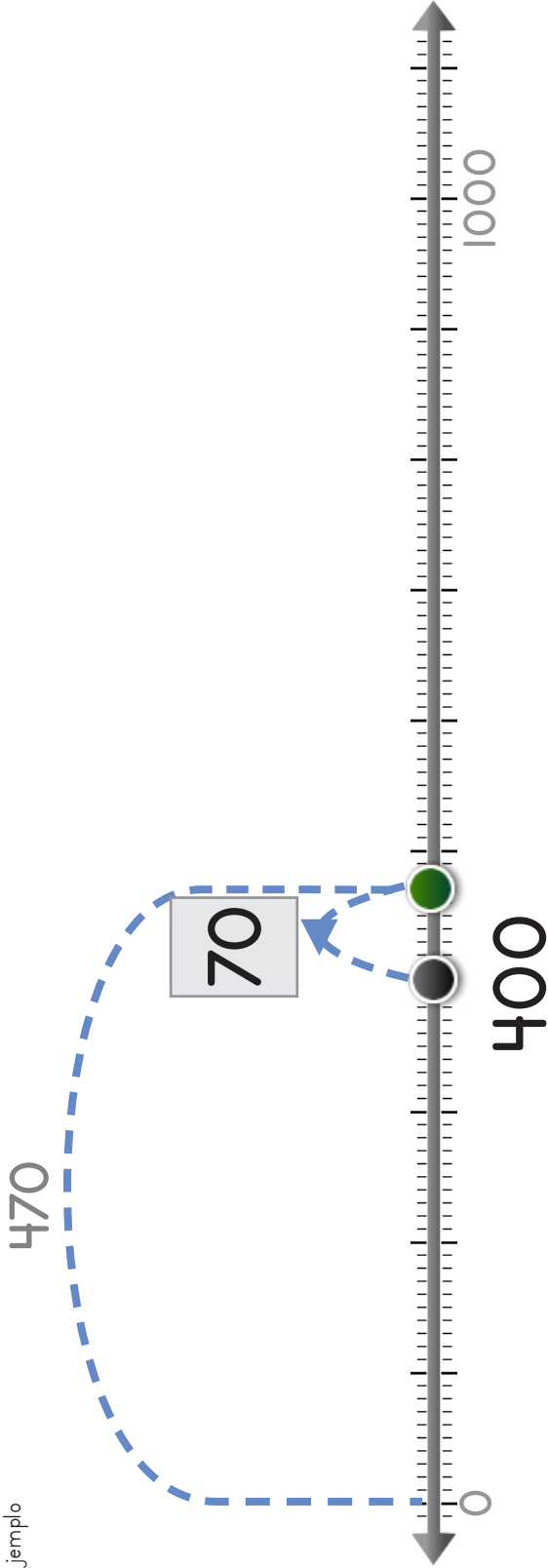
3





Escribe el número que el punto salta hacia atrás.

Ejemplo








Manipulables

Dibuja la barra que falta.

Ejemplo





Dibuja las fichas y escribe los números correctos.

1

$$920 - \square = 900$$

2

$$780 - \square = 700$$

3

$$800 = \square - 90$$




El punto salta dos veces. Coloca los números y los puntos para completar el problema.

1

1000

80

900 = - 80

2

1000

70

870

- = 800





Dibuja las barras y escribe los números para completar cada

$100 = \square - 20$





Completa cada operación.

| | | | | |
|-----|---|----------------------|---|-----|
| 360 | - | <input type="text"/> | = | 300 |
| 500 | = | <input type="text"/> | - | 20 |
| 820 | - | <input type="text"/> | = | 800 |
| 600 | = | <input type="text"/> | - | 40 |
| 790 | - | <input type="text"/> | = | 700 |
| 200 | = | <input type="text"/> | - | 50 |
| 400 | = | <input type="text"/> | - | 70 |
| 900 | + | <input type="text"/> | = | 990 |
| 100 | = | <input type="text"/> | - | 20 |





Completa cada operación.

$$260 - 60 = \square$$

$$900 = 990 - \square$$

$$800 + \square = 850$$

$$720 - 20 = \square$$

$$\square = 610 - 10$$

$$380 - \square = 300$$

$$430 - 30 = \square$$

$$440 = \square - 40$$

$$\square - \square = 650$$

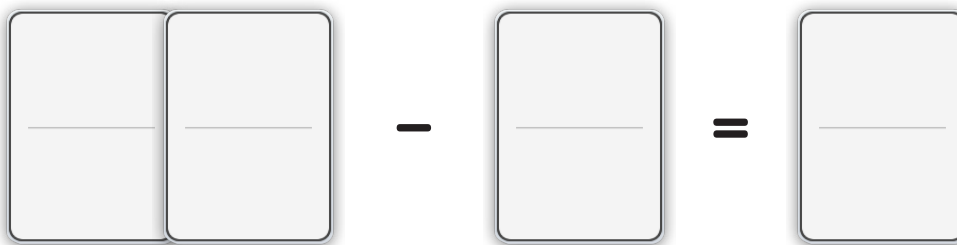




Lee la historia.

Joe ha manejado 300 millas. Si tiene que recorrer 370 millas para llegar a su destino, ¿cuántas millas le faltan a Joe para llegar?

Haz un modelo con fichas que explique la historia.



Escribe una operación para tu modelo.



Respuesta: _____






Lee la historia.

Marla bagged 600 leaves before it rained. How many more leaves does she need to put in the bag to make the total 670?

Draw dots to make a model for the story.



Escribe una operación para tu modelo.

$$\boxed{} - \boxed{} = \boxed{}$$

Respuesta: _____

