

Nombre: _____ Fecha: _____

Dibuja una ficha para completar el problema.



Ejemplo

decenas unidades

1

decenas unidades

2

decenas unidades

3

decenas unidades

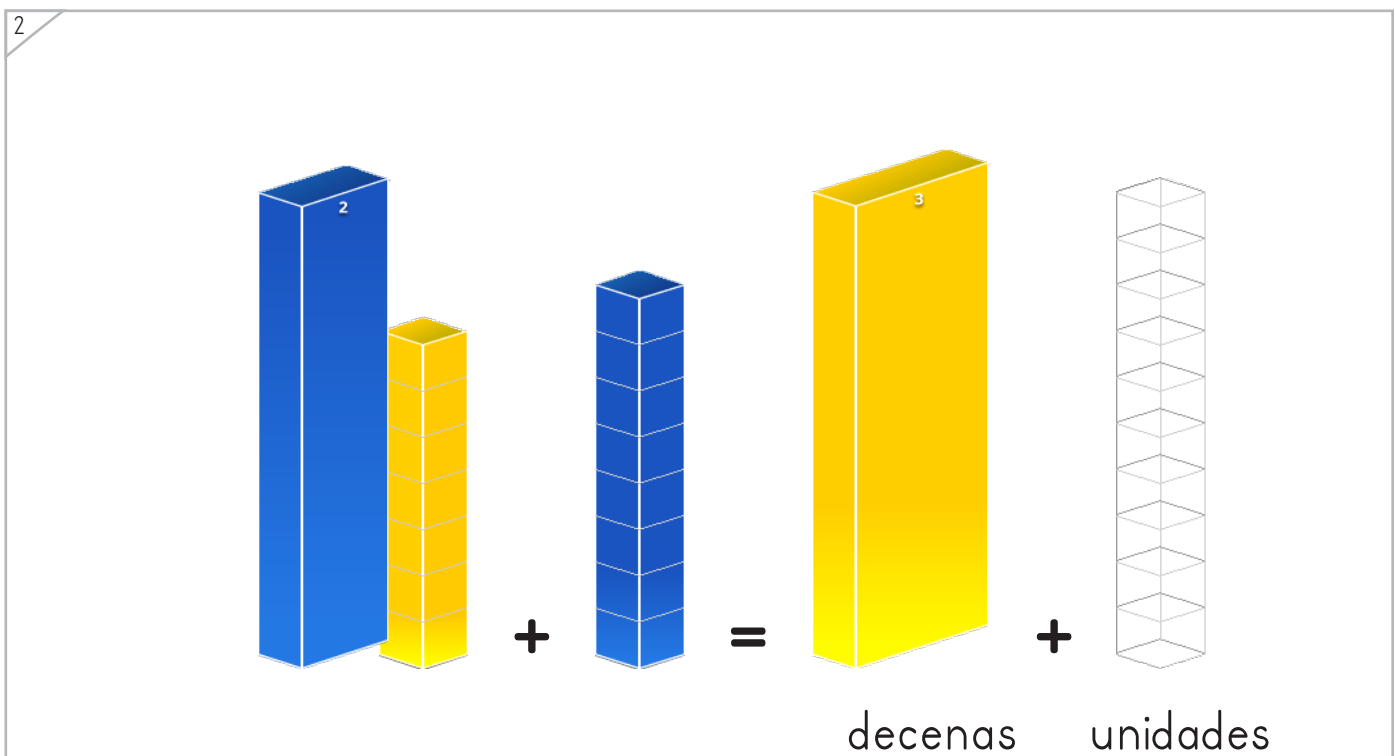
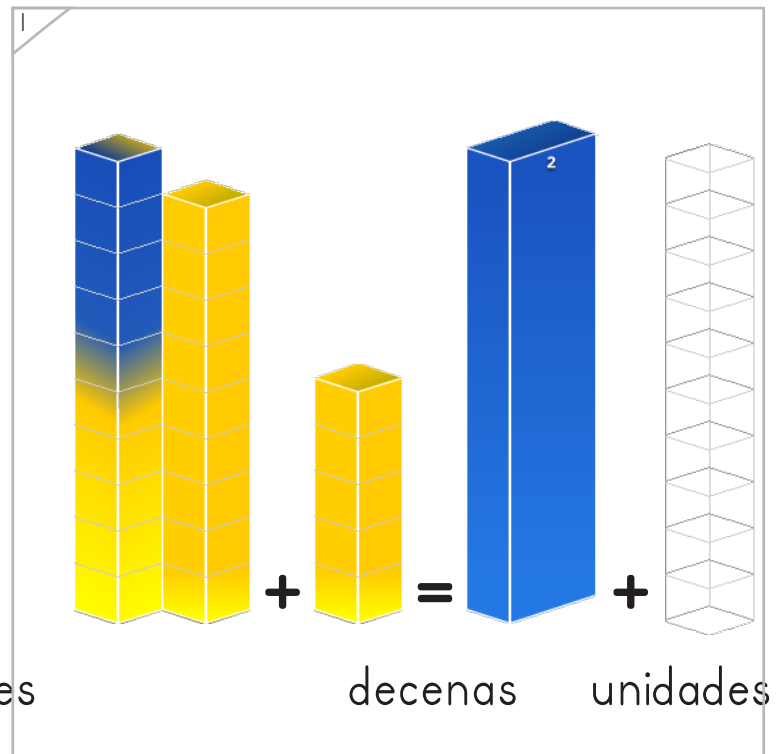
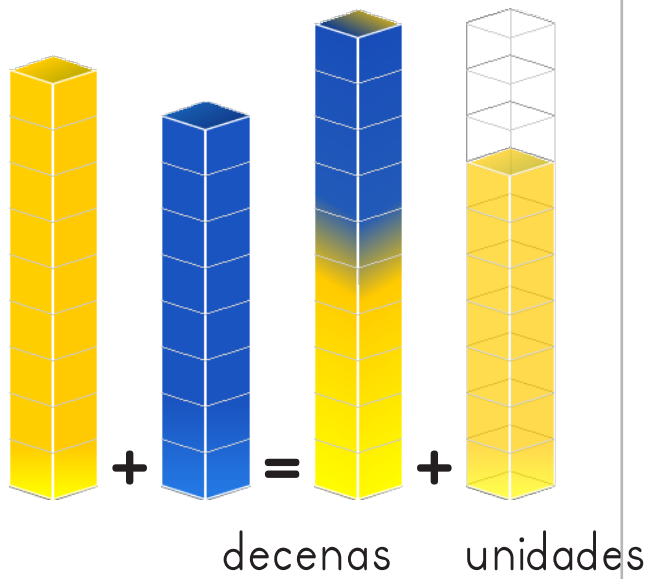
Copyright© 2017 Symphony Learning LLC. Se concede permiso para reproducir esta hoja para uso en el aula.





Dibuja una barra para completar el problema.

Ejemplo





Dibuja las fichas y escribe los números correctos.

1

decenas unidades

$$\square + \square = 20 + 1$$

2

decenas unidades

$$18 + \square = \square + 4$$

3

decenas unidades

$$\square + \square = 7 + 9$$


Nombre: _____ Fecha: _____

Dibuja las barras y escribe los números que complete la operación.



1

$\square + \square = \square + 3$

2

$\square + \square = \square + 7$

Copyright© 2017 Symphony Learning LLC. Se concede permiso para reproducir esta hoja para uso en el aula.





Completa cada operación.

$$19 + 7 = \boxed{20} + \boxed{6}$$

decenas unidades

$$\boxed{} + \boxed{} = 9 + 13$$

$$25 + 8 = \boxed{} + \boxed{}$$

$$\boxed{} + \boxed{} = 12 + 8$$

$$34 + 8 = \boxed{} + \boxed{}$$

$$\boxed{} + \boxed{} = 17 + 7$$

$$28 + 3 = \boxed{} + \boxed{}$$

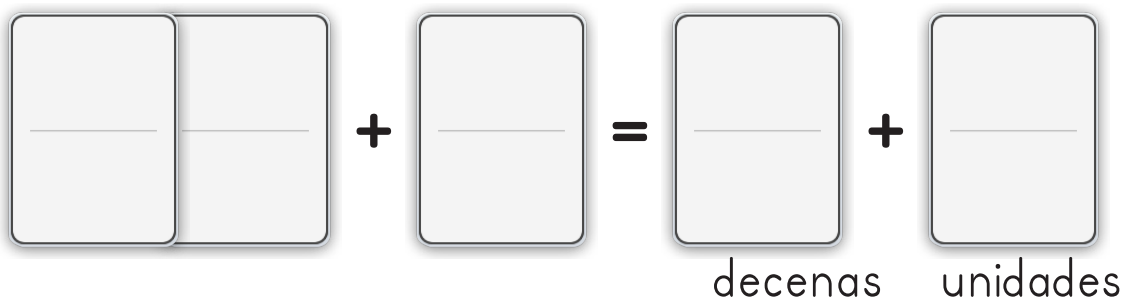




Lee la historia.

Demetrio tiene un perro que pesa 24 libras. Lisa tiene un perro que pesa 8 libras. ¿Cuántas libras pesan los dos perros juntos?

Haz un modelo con fichas que explique la historia.



Escribe una operación para tu modelo.

$$\square + \square = \square + \square$$

Respuesta: _____

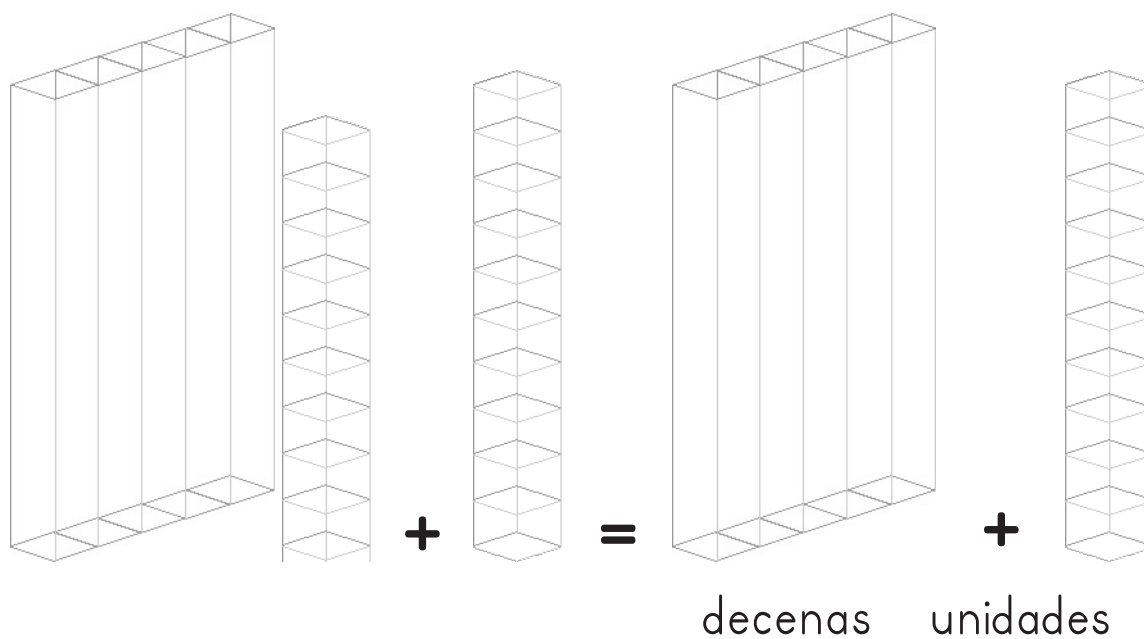




Lee la historia.

Sara recolectó 37 fresas. Terry recolectó 6.
¿Cuántas fresas recolectaron en total?

Haz un modelo con barras para explicar la historia.



Escribe una operación para tu modelo.

$$\square + \square = \square + \square$$

Respuesta: _____

