

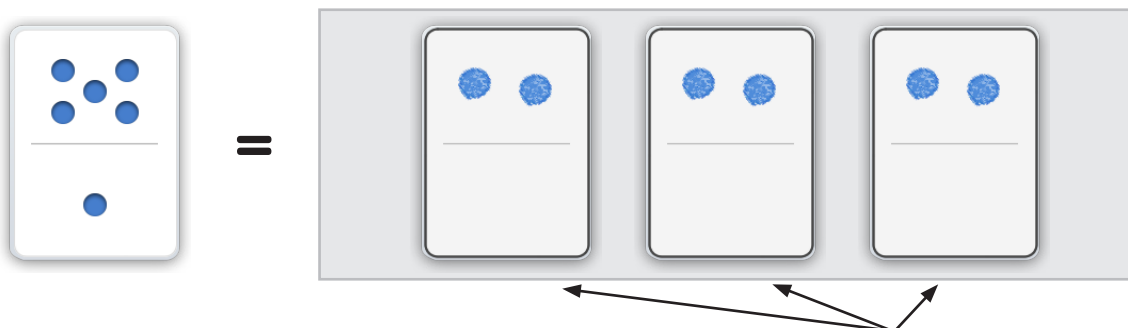
Nombre: _____ Fecha: _____

Dibuja las fichas que correspondan a la descripción.



Manipulables

Ejemplo



6 puede ser dividido en 3 grupos iguales. Cada grupo tendrá 2

1

10 puede ser dividido en 5 grupos iguales. ¿Cuántos puntos tendrá cada grupo?

2

9 puede ser dividido en 3 grupos iguales. ¿Cuántos puntos tendrá cada grupo?



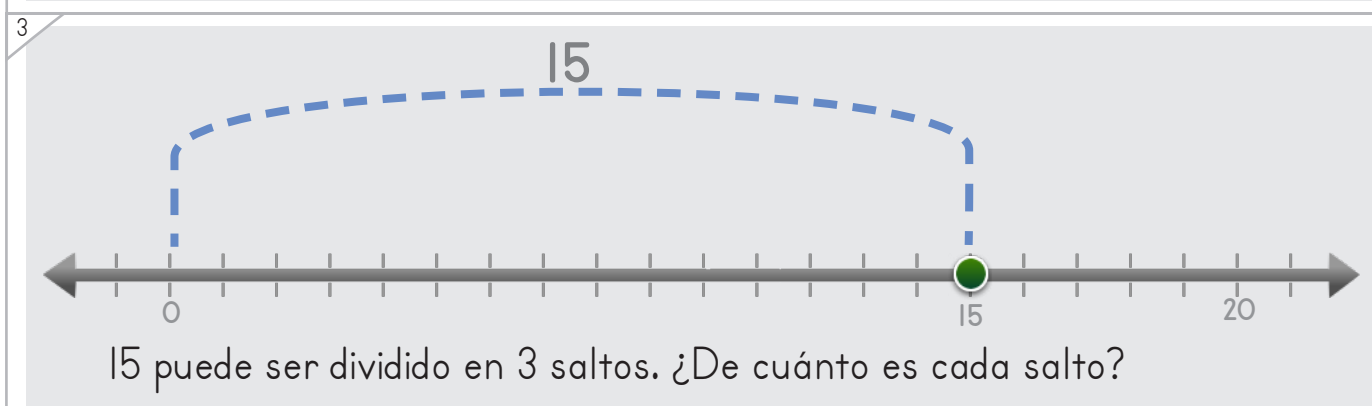
Nombre: _____ Fecha: _____



Dibuja los saltos y coloca los números para completar la operación.

Ejemplo

Manipulables



Copyright© 2017 Symphony Learning LLC. Se concede permiso para reproducir esta hoja para uso en el aula.





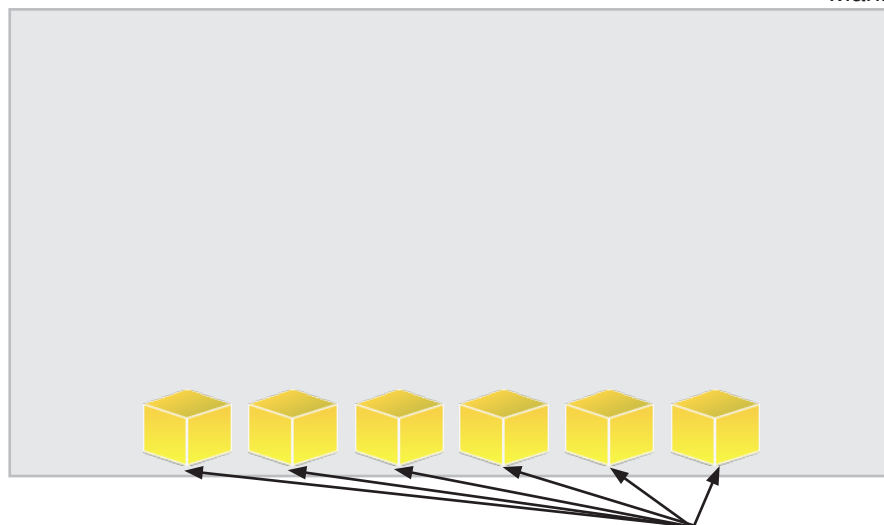
Manipulables

Dibuja las barras que correspondan a la descripción.

Ejemplo




=




6 puede ser dividido en 6 barras. Cada barra será de 1 unidad.

1




=




8 puede ser dividido en 4 barras. ¿De cuánto será cada barra?

2



=



9 puede ser dividido en 3 barras. ¿De cuánto será cada barra?



Nombre: _____ Fecha: _____

Dibuja las fichas y coloca los números para completar la operación.



Ejemplo



6 puede ser dividido en 3 grupos. Cada grupo tendrá 2 puntos.

$$6 \div 3 = 2$$

1

=

$$8 \div 4 = \square$$

2

=

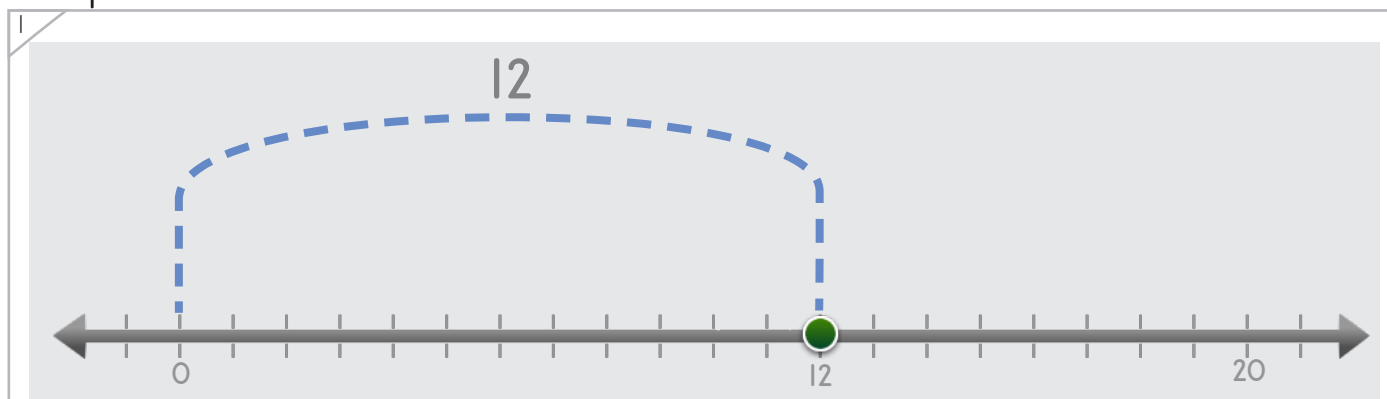
$\square = 12 \div 3$



Nombre: _____ Fecha: _____

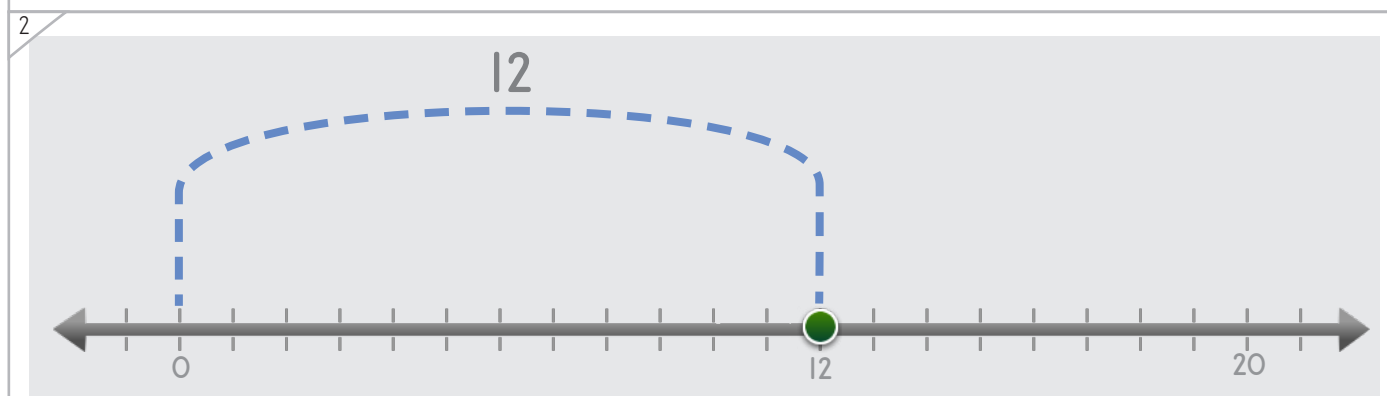


Dibuja los saltos y coloca los números para completar la operación.

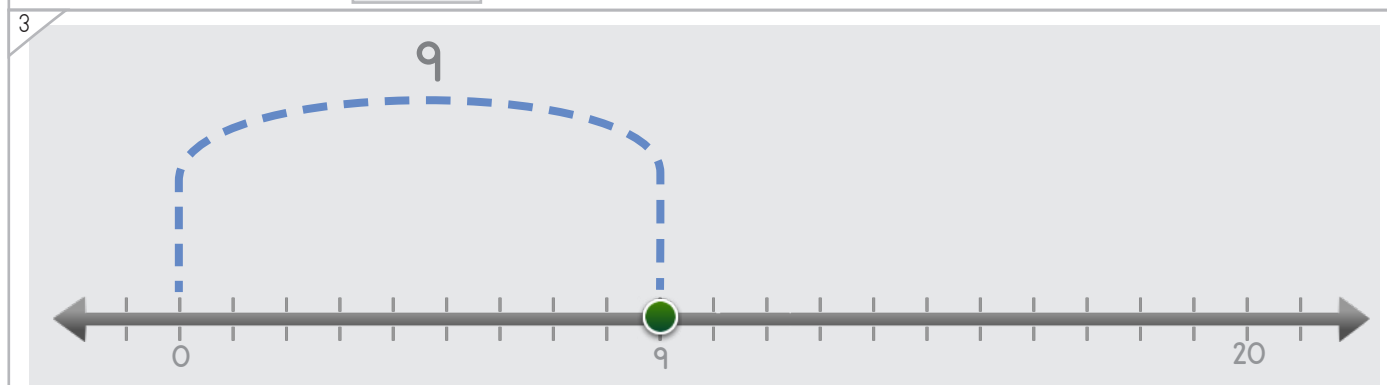


12 puede ser dividido en 3 saltos. ¿De cuánto será cada salto?

$$12 \div 3 = 4$$



$$\square = 12 \div 4$$



$$9 \div 3 = \square$$

Copyright© 2017 Symphony Learning LLC. Se concede permiso para reproducir esta hoja para uso en el aula.




Nombre: _____ Fecha: _____

Dibuja los grupos de barras y escribe los números para completar la operación.



Manipulables y Símbolos

1




=

15 puede ser dividido en 5 barras. ¿Cuánto vale cada barra?

$$15 \div 5 = 3$$

2



=

$$14 \div 2 = \square$$

Copyright© 2017 Symphony Learning LLC. Se concede permiso para reproducir esta hoja para uso en el aula.





Completa cada operación.

$4 \div 1 = \square$	$\square = 2 \div 2$
$6 \div 3 = \square$	$\square = 8 \div 2$
$4 \div 2 = \square$	$\square = 6 \div 2$
$10 \div 5 = \square$	$\square = 10 \div 2$
$1 \div 1 = \square$	$\square = 8 \div 4$
$4 \div 4 = \square$	$\square = 12 \div 3$
$15 \div 5 = \square$	$\square = 12 \div 6$
$6 \div 1 = \square$	$\square = 6 \div 2$






Lee la historia.

Jason tiene un total de 8 lápices guardados en dos cajas.
¿Cuántos lápices tiene en cada caja?

Haz un modelo con fichas que explique la historia.




Escribe una operación para tu modelo.



Respuesta: _____



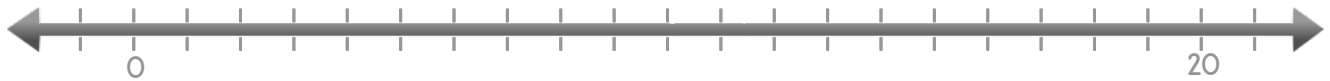
Nombre: _____ Fecha: _____



Lee la historia.

Victoria tiene 16 tarjetas de colección, divididas en 8 paquetes iguales. ¿Cuántas tarjetas hay en cada paquete?

Haz un modelo con puntos que explique la historia.



Escribe una operación para tu modelo.



Respuesta: _____

