

Nombre: _____ Fecha: _____




Divide la barra en partes iguales de acuerdo a la fracción.

Ejemplo




Forma $\frac{1}{3}$

1



Forma $\frac{1}{2}$

2



Forma $\frac{1}{4}$




Nombre: _____ Fecha: _____



Divide la recta numérica en partes iguales y marca la fracción.

Ejemplo



Coloca un punto en $\frac{1}{2}$

1

A horizontal number line with arrows at both ends. A vertical tick mark on the left is labeled '0'. A vertical dashed tick mark is on the right.

Coloca un punto en $\frac{1}{3}$

2

A horizontal number line with arrows at both ends. A vertical tick mark on the left is labeled '0'. A vertical dashed tick mark is on the right.

Coloca un punto en $\frac{1}{4}$



Copyright© 2017 Symphony Learning LLC. Se concede permiso para reproducir esta hoja para uso en el aula.





Divide la caja en partes iguales de acuerdo a la fracción.

Ejemplo



Forma $\frac{1}{4}$



Forma $\frac{1}{3}$



Forma $\frac{1}{2}$

