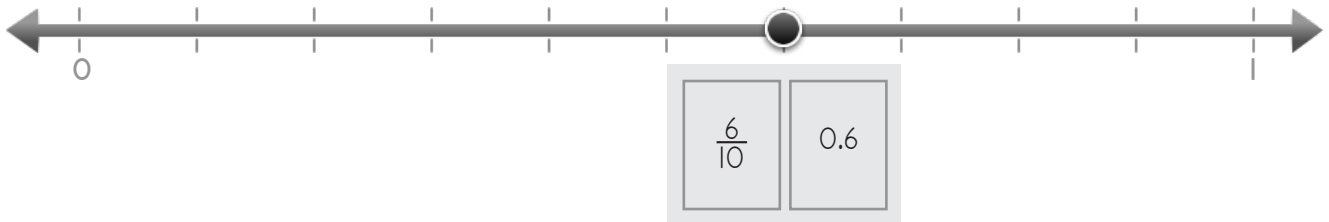
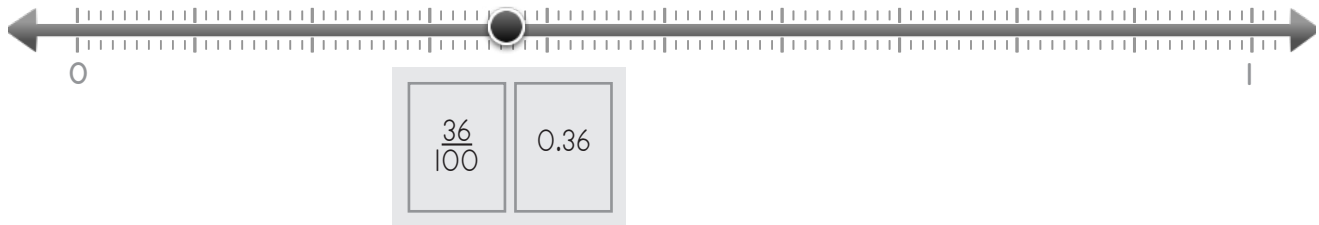


Nombre: \_\_\_\_\_ Fecha: \_\_\_\_\_



Escribe la fracción y su decimal.

Ejemplo



1

Two number lines for section 1. The top one has a dot at 0.7 and an empty box below it. The bottom one has a dot at 0.36 and an empty box below it.

2

Two number lines for section 2. The top one has a dot at 0.8 and an empty box below it. The bottom one has a dot at 0.1 and an empty box below it.

Copyright© 2017 Symphony Learning LLC. Se concede permiso para reproducir esta hoja para uso en el aula.




Nombre: \_\_\_\_\_ Fecha: \_\_\_\_\_



Escribe la fracción y su decimal.

Ejemplo



$\frac{7}{10}$	0.7
----------------	-----



$\frac{2}{100}$	0.02
-----------------	------

1

--	--

--	--

2

--	--

--	--



Nombre: \_\_\_\_\_ Fecha: \_\_\_\_\_



Escribe la fracción y su decimal.

Ejemplo

1

$$\frac{1}{10} = 0.1$$

2

$$= 0.58$$

3



$$=$$

Copyright© 2017 Symphony Learning LLC. Se concede permiso para reproducir esta hoja para uso en el aula.




Completa cada problema.




1

  
 = 0.22

2

  
$$\frac{75}{100} = 0.75$$

3

  
 = 



Escribe la fracción o decimal que falta.

$$\frac{67}{100} = \square$$

$$\square = 0.88$$

$$\square = 0.2$$

$$\square = \frac{43}{100}$$

