



Dibuja los puntos para completar el problema.

¿Necesitas ejemplos? Ve los ejercicios 21.1, 21.3 y 21.5

1




+		

2

+		



Coloca los puntos y los números para la misma operación.

+			

6	8	5
centenas	decenas	unidades





Completa cada operación

$$\begin{array}{r}
 479 \\
 + \quad 68 \\
 \hline
 \end{array}$$

centenas decenas unidades

$$\begin{array}{r}
 2 \quad 2 \\
 98 \\
 + 495 \\
 \hline
 \end{array}$$

centenas decenas unidades

$$\begin{array}{r}
 1 \\
 751 \\
 + \quad 826 \\
 \hline
 \end{array}$$

centenas decenas unidades

$$\begin{array}{r}
 1 \quad 1 \\
 897 \\
 + \quad 94 \\
 \hline
 \end{array}$$

centenas decenas unidades





Lee la historia.

Durante un torneo de 3 juegos de boliche, Terrence hizo los siguientes puntos: 234, 97 y 190, respectivamente. ¿Cuál fue el score total de Terrence por los 3 juegos?

Dibuja un modelo con fichas:

Escribe una operación que coincida con el modelo:

+			

+			

Respuesta: _____



Nombre: _____ Fecha: _____



Problemas

Relata una historia que coincida con el modelo.

Completa el modelo de fichas:

Escribe una operación que coincida con el modelo:

--	--	--

--	--	--

--	--	--

+

+

--	--	--

--	--	--

Respuesta: _____

