



Dibuja los puntos para completar la operación.

Ejemplo

+	<hr/>		








1			
	+	<hr/>	

2			
	+	<hr/>	



Haz que el modelo de fichas y la operación coincidan.






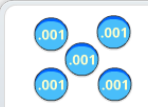
1

			
			
+			

	$\begin{array}{r} 24.33 \\ + \phantom{0000} \\ \hline \phantom{0000} \end{array}$

2

			
			
+			

	$\begin{array}{r} 0.227 \\ + \phantom{0000} \\ \hline \phantom{0000} \end{array}$





Completa cada operación.

$$\begin{array}{r}
 506.075 \\
 + 43.43 \\
 \hline
 \end{array}$$

$$\begin{array}{r}
 7.109 \\
 + 83.94 \\
 \hline
 \end{array}$$

$$\begin{array}{r}
 986.375 \\
 - 64.204 \\
 \hline
 \end{array}$$

$$\begin{array}{r}
 66.4 \\
 - 24.299 \\
 \hline
 \end{array}$$

$$\begin{array}{r}
 .599 \\
 + 83.409 \\
 \hline
 \end{array}$$

$$\begin{array}{r}
 199.977 \\
 + 56.999 \\
 \hline
 \end{array}$$



Nombre: \_\_\_\_\_ Fecha: \_\_\_\_\_



Crea un modelo de fichas y una operación que muestre la suma de: doscientos setenta con treinta y cuatro milésimos; más cincuenta y seis con ciento ocho milésimos.

Tu modelo de fichas:

Tu operación numérica:

