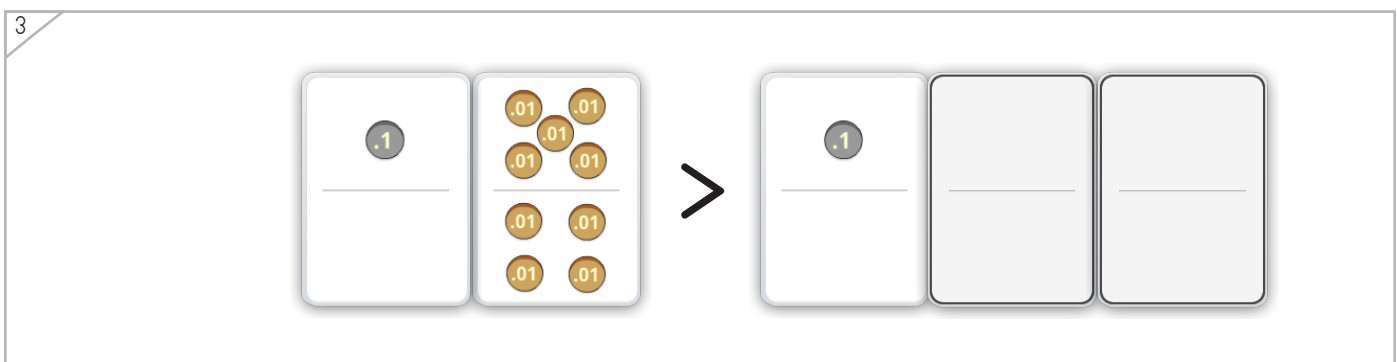
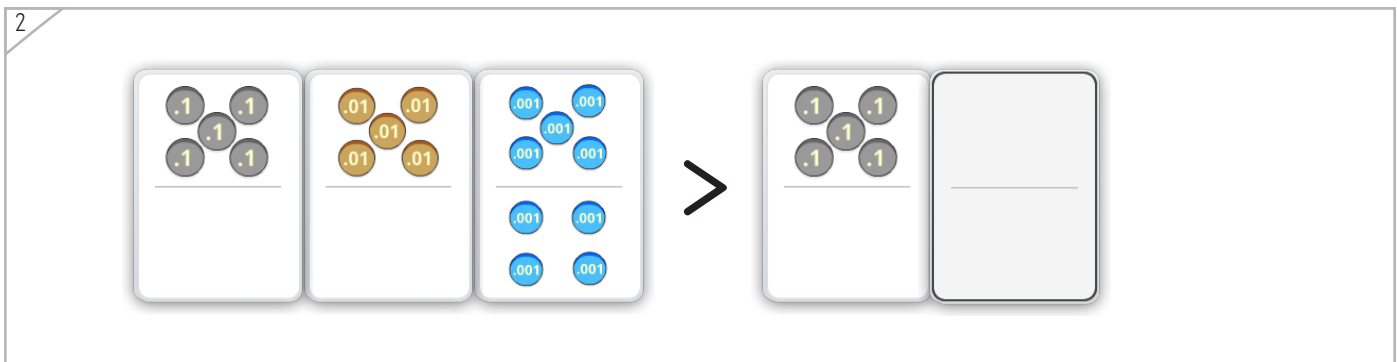
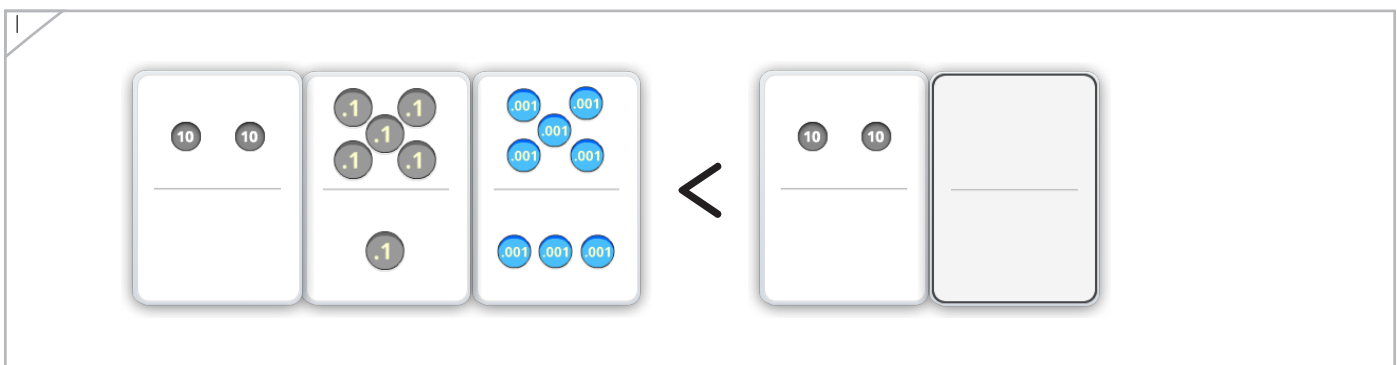
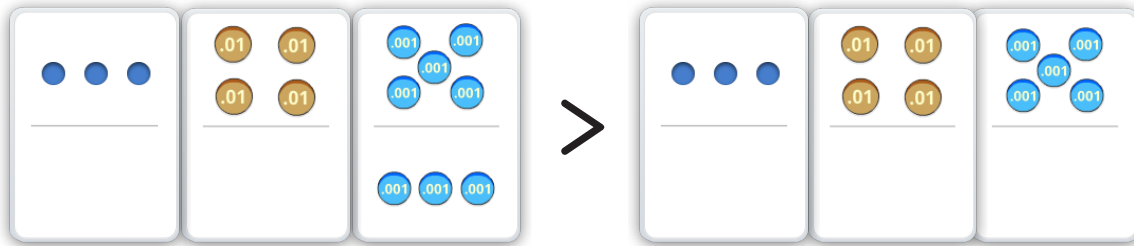


Nombre: _____ Fecha: _____



Dibuja los puntos para hacer verdadera la comparación.

Ejemplo





Coloca los puntos y los números para completar cada comparación.

1

			$<$	<div style="border: 1px solid gray; width: 100%; height: 100%; display: flex; justify-content: space-between;"> <div style="border-bottom: 1px solid gray; width: 50%;"></div> <div style="border-bottom: 1px solid gray; width: 50%;"></div> </div>
<div style="border: 1px solid gray; width: 100%; height: 100%;"></div>	$<$	20.07		

2

			$<$	<div style="border: 1px solid gray; width: 100%; height: 100%; display: flex; justify-content: space-between;"> <div style="border-bottom: 1px solid gray; width: 50%;"></div> <div style="border-bottom: 1px solid gray; width: 50%;"></div> </div>
<div style="border: 1px solid gray; width: 100%; height: 100%;"></div>	$<$	<div style="border: 1px solid gray; width: 100%; height: 100%;"></div>		

3

	<div style="border: 1px solid gray; width: 100%; height: 100%;"></div>		$>$	<div style="border: 1px solid gray; width: 100%; height: 100%; display: flex; justify-content: space-between;"> <div style="border-bottom: 1px solid gray; width: 50%;"></div> <div style="border-bottom: 1px solid gray; width: 50%;"></div> </div>
<div style="border: 1px solid gray; width: 100%; height: 100%;"></div>	$>$	<div style="border: 1px solid gray; width: 100%; height: 100%;"></div>		





Completa cada comparación.

10.201	<input type="text"/>	10.19	26.119	<input type="text"/>	22.99
1.067	<input type="text"/>	1.059	200.3	<input type="text"/>	200.269
25.003	<input type="text"/>	25.101	2.569	<input type="text"/>	2.581
300.91	<input type="text"/>	301.003	5.101	<input type="text"/>	5.099
45.672	<input type="text"/>	45.723	119.105	<input type="text"/>	119.095
6.451	<input type="text"/>	6.399	38.09	<input type="text"/>	38.088
78.219	<	<input type="text"/>	<input type="text"/>	<	31.001
56.113	<	<input type="text"/>	<input type="text"/>	>	67.99

