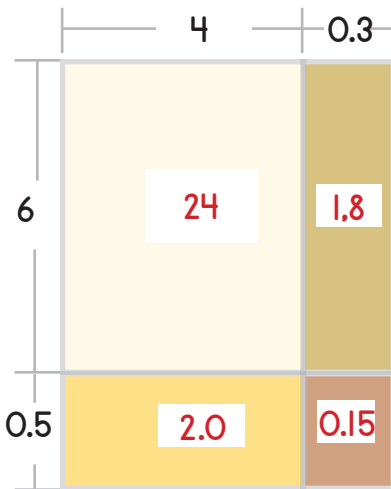




Completa los modelos.

Ejemplo



A cada rectángulo le falta su área. Empezando por la parte izquierda de arriba, encuentra cada producto:

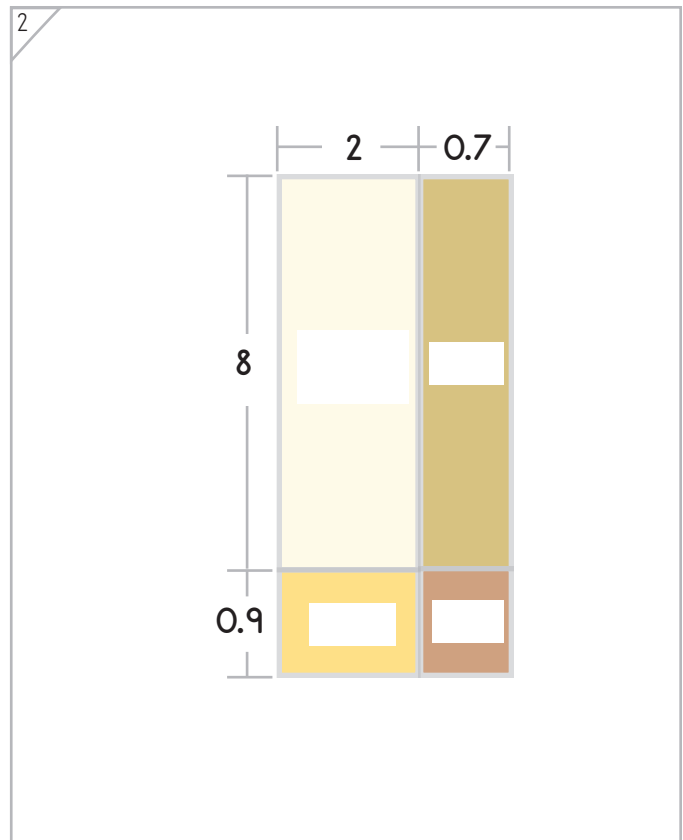
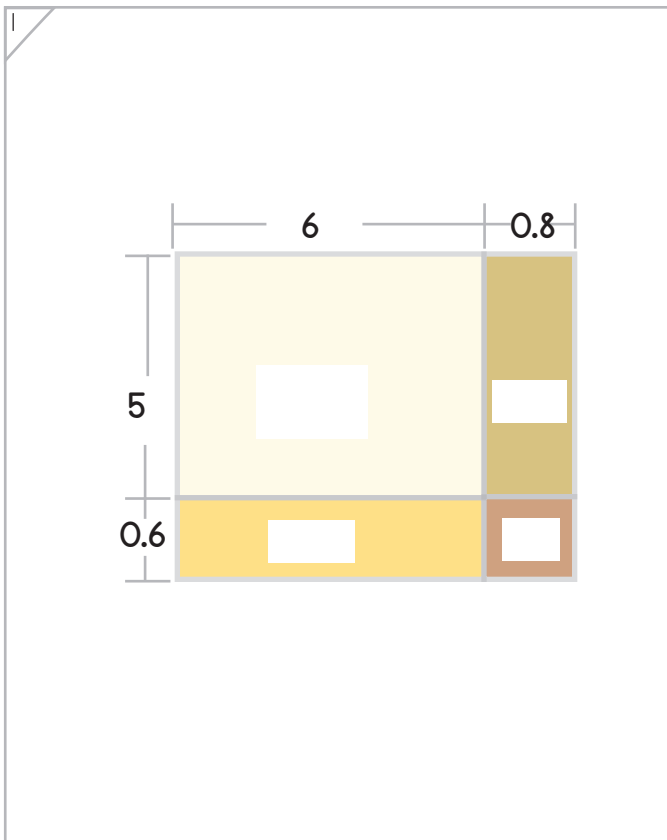
$$6 \times 4 = 24$$

$$6 \times 0.3 = 1.8$$

$$0.5 \times 4 = 2.0$$

$$0.5 \times 0.3 = 0.15$$

Si sumamos estas áreas, podemos encontrar el área total:
 $24 + 1.8 + 2.0 + 0.15 = 27.95$





Haz que el modelo de fichas y la operación coincidan.

1

$$\begin{array}{r}
 7.60 \\
 \times 4.40 \\
 \hline
 \end{array}$$

7 × 4

0.6 × 4

7 × 0.4

0.6 × 0.4

+

2

$$\begin{array}{r}
 3.40 \\
 \times 5.70 \\
 \hline
 \end{array}$$

·

·

·

·

+





Haz que el modelo de fichas y la operación coincidan.

1

$$\begin{array}{r}
 8.50 \\
 \times \\
 \hline
 \\
 \\
 + \\
 \hline

 \end{array}$$

2

$$\begin{array}{r}
 \\
 \times \\
 \hline
 \\
 \\
 + \\
 \hline

 \end{array}$$





Símbolos

Crea un modelo para resolver cada operación.

$$\begin{array}{r}
 4.20 \\
 \times 3.7 \\
 \hline
 \\
 \\
 + \\
 \\
 \hline
 \end{array}$$

2

Crea tu propio modelo!

$$\begin{array}{r}
 \cdot \\
 \times \cdot \\
 \hline
 \\
 \\
 + \\
 \\
 \hline
 \end{array}$$

