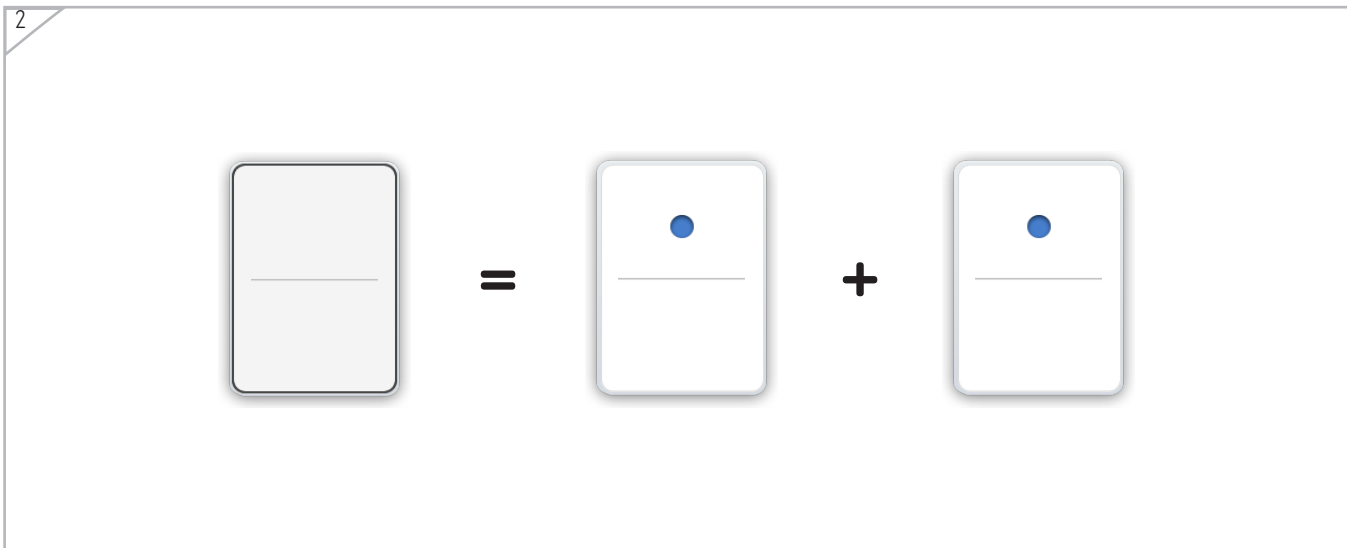
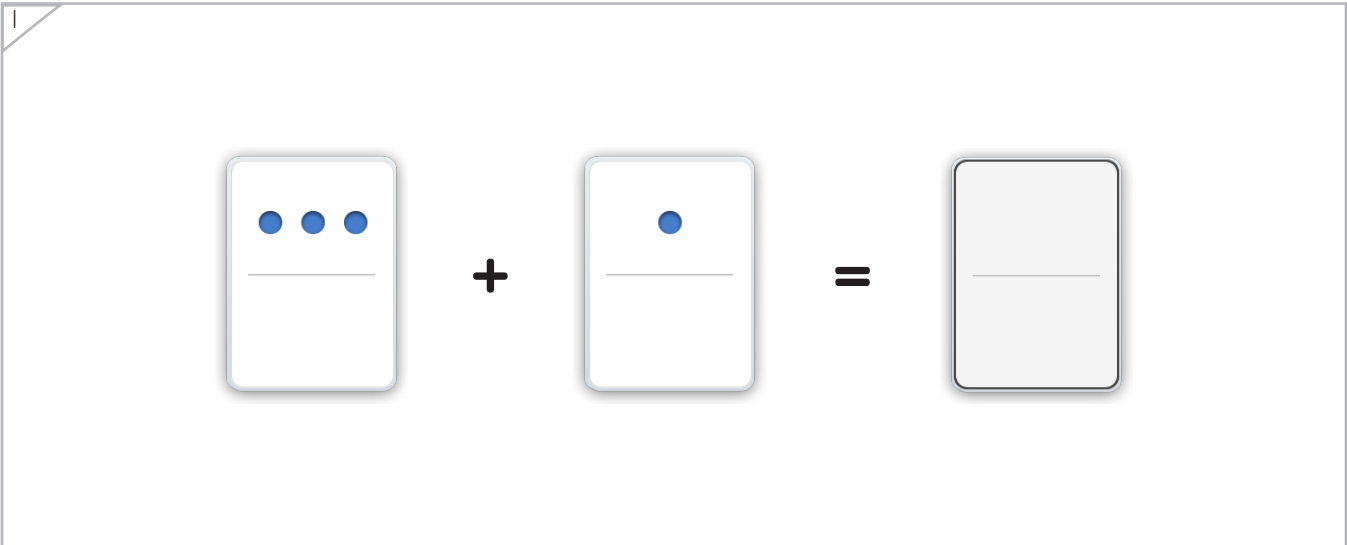





Dibuja la ficha que sea el total de las otras dos juntas.

Ejemplo

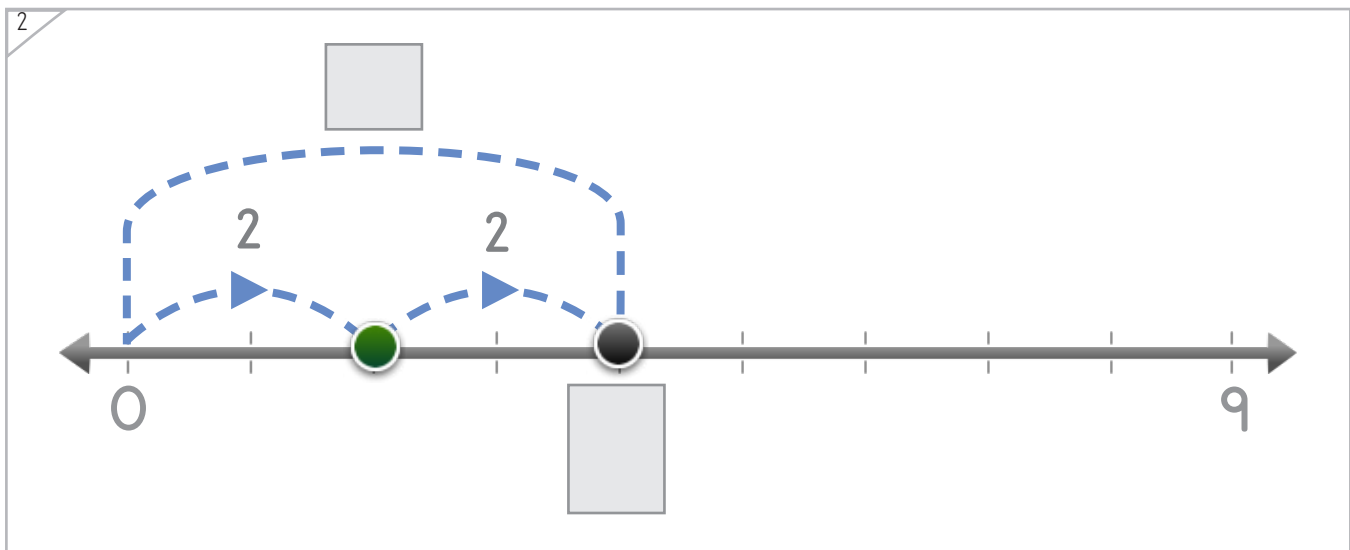
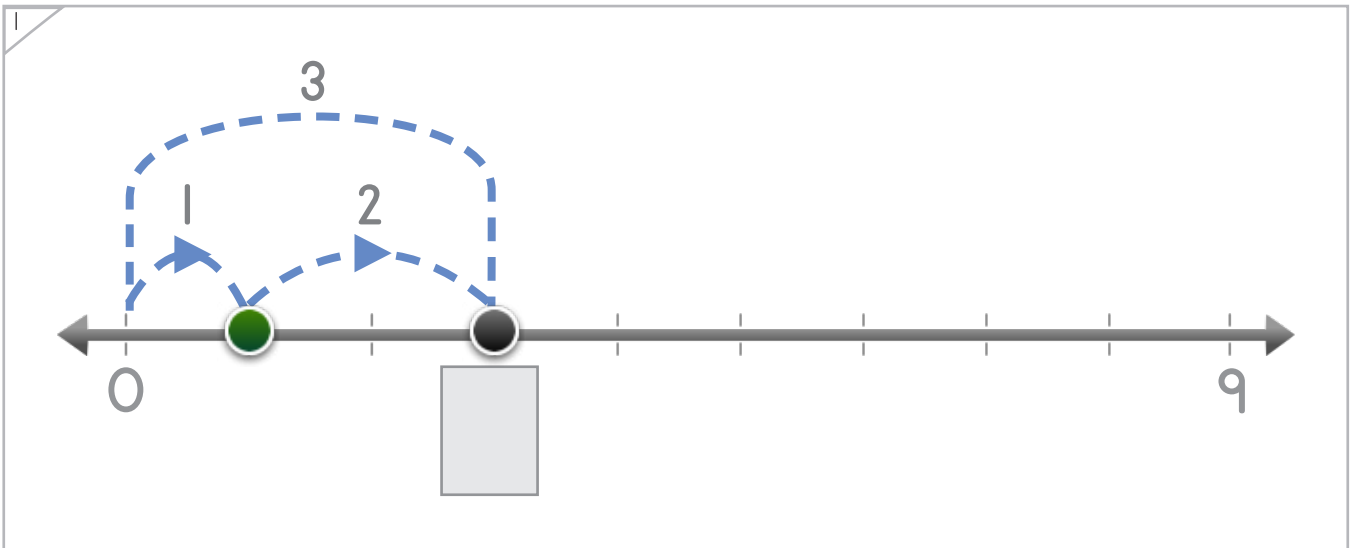
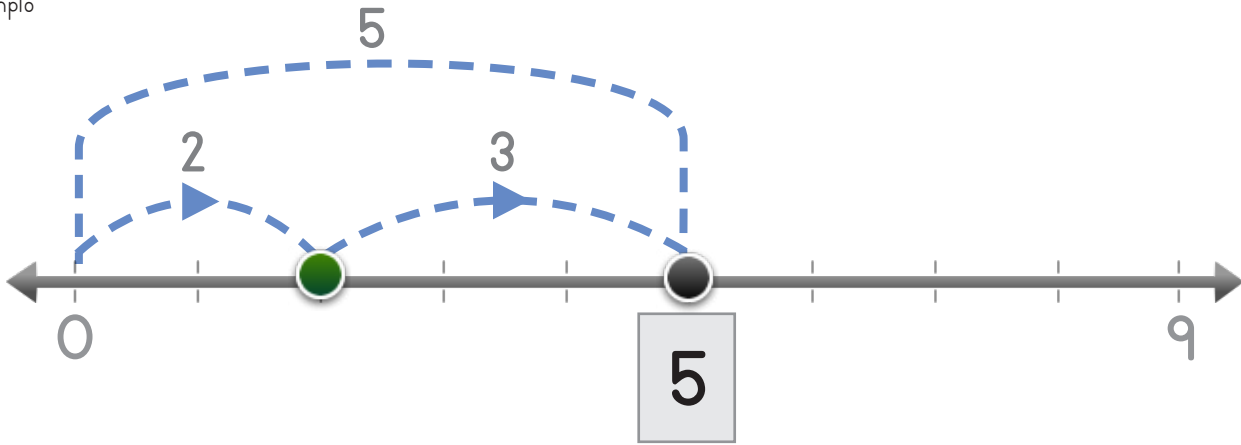


Nombre : _____ Fecha: _____



El punto salta dos veces. Escribe el número en donde el punto cae.

Ejemplo



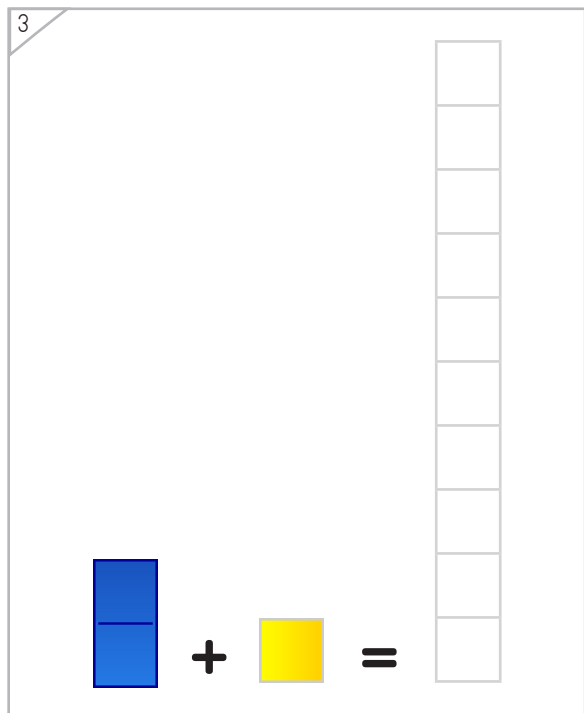
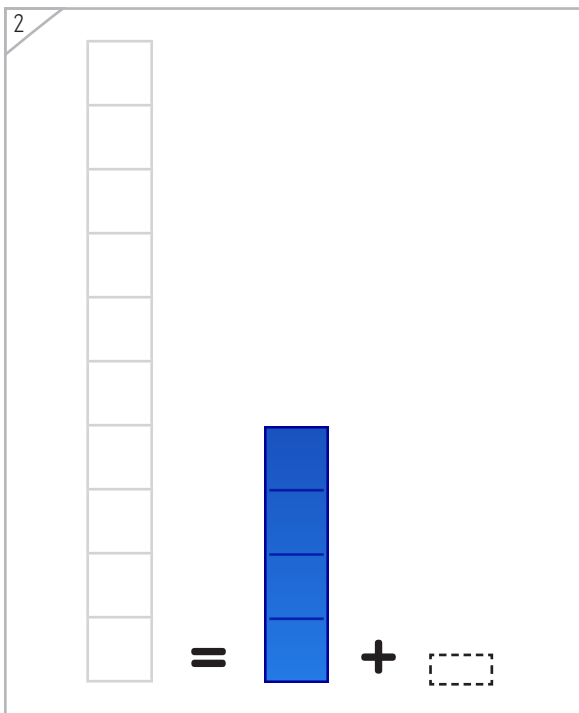
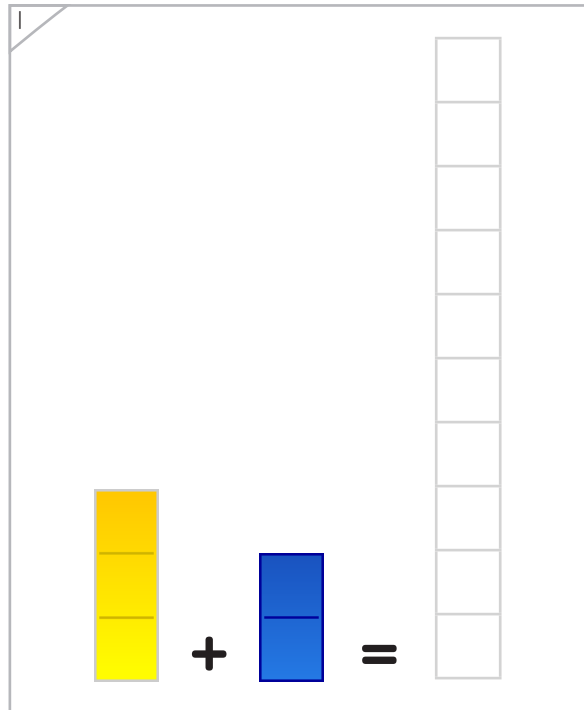

Copyright© 2017 Symphony Learning LLC. Se concede permiso para reproducir esta hoja para uso en el aula.





Dibuja una barra que sea el total de las otras dos juntas.

Ejemplo





Dibuja las fichas y escribe los números que faltan.

1

$$2 + 3 = 5$$

$$+ 3 = 5$$

$$+ \square = 5$$

2

$$3 + 1 = 4$$

$$+ 1 = 4$$

$$+ \square = 4$$

3

$$3 = 3 + \square$$

$$= \square + \square$$

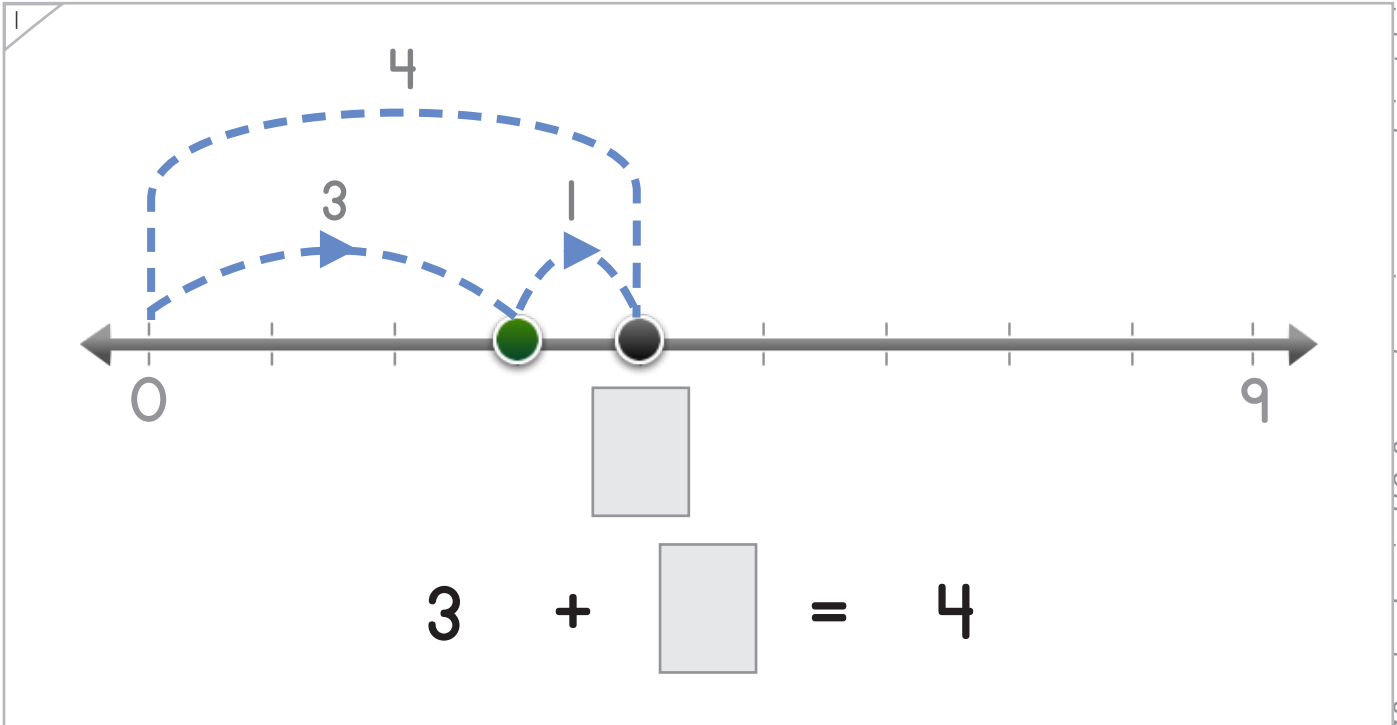



Escribe los números que faltan en la recta numérica y completa la suma.

Ejemplo



$$1 + \boxed{1} = 2$$



$$3 + \boxed{} = 4$$





Dibuja los puntos que saltan y escribe los números en la recta.

1

$3 + \square = 5$

2

$4 = 2 + 2$





Dibuja las barras y escribe los números que completan la operación.

Ejemplo

3 + 2 = 5

+ 3 = 4

2 = + 1

+ 3 = 3

Copyright© 2017 Symphony Learning LLC. Se concede permiso para reproducir esta hoja para uso en el aula.





Dibuja las barras y escribe los números que completan la operación.

1

2 + 2 = 4

2

5 = 3 + 2

3

4 + 1 =

4

5 + = 5





Completa cada combinación numérica.

$1 + 1 = \square$	$\square = 2 + 3$
-------------------	-------------------

$0 + 5 = \square$	$4 + 1 = \square$
-------------------	-------------------

$\square = 0 + 3$	$1 + 0 = \square$
-------------------	-------------------

$1 + \square = \square$	$3 + \square = \square$
-------------------------	-------------------------





Completa cada suma.

$1 + 1 = \square$	$\square = 2 + 3$
$4 + 1 = \square$	$1 + 3 = \square$
$\square = 0 + 5$	$4 + 1 = \square$
$1 + 1 = \square$	$0 + 4 = \square$
$3 + 0 = \square$	$\square = 1 + 2$
$2 + 1 = \square$	$1 + 4 = \square$
$\square = 1 + \square$	$3 + \square = \square$





Completa cada operación.

<input type="text"/> = 3 + 1	0 + 2 = <input type="text"/>
2 + 2 = <input type="text"/>	4 + 1 = <input type="text"/>
1 + 1 = <input type="text"/>	<input type="text"/> = 0 + 3
0 + 1 = <input type="text"/>	4 + 0 = <input type="text"/>
<input type="text"/> = 5 + 0	1 + 2 = <input type="text"/>
2 + 3 = <input type="text"/>	<input type="text"/> = 1 + 4
2 + <input type="text"/> = <input type="text"/>	1 + <input type="text"/> = <input type="text"/>







Lee la historia.

Elena tiene un gatito que pesa 2 libras.
Víctor tiene un gatito que pesa 1 libra.
¿Cuánto pesan los dos gatitos juntos?

Haz un modelo con fichas que explique la historia.



Escribe una operación para tu modelo.



Respuesta: _____





Lee la historia.

Jim metió un gol en su partido de fútbol.
Donna metió 3 goles.
¿Cuántos goles metieron Donna y Jim juntos?

Haz un modelo con puntos en la recta numérica para la historia.



Escribe una operación para tu modelo.

$$\square + \square = \square$$

Respuesta: _____

