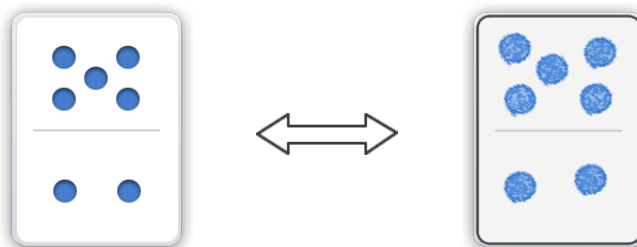




Dibuja la ficha que sea IGUAL.

Ejemplo



1

2

3

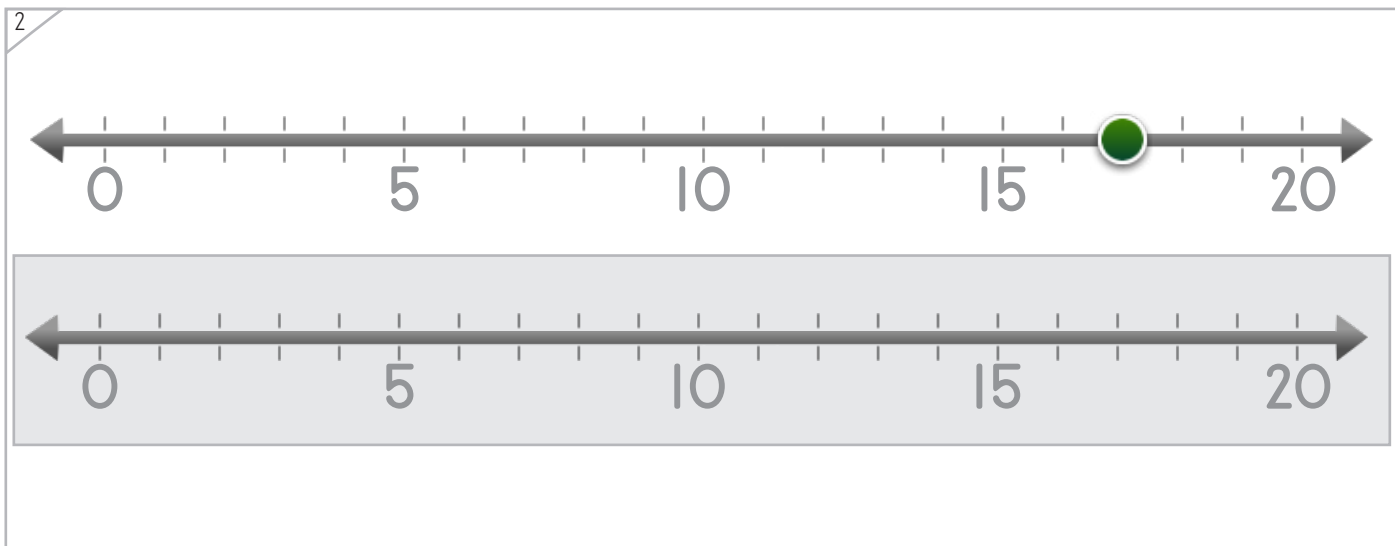
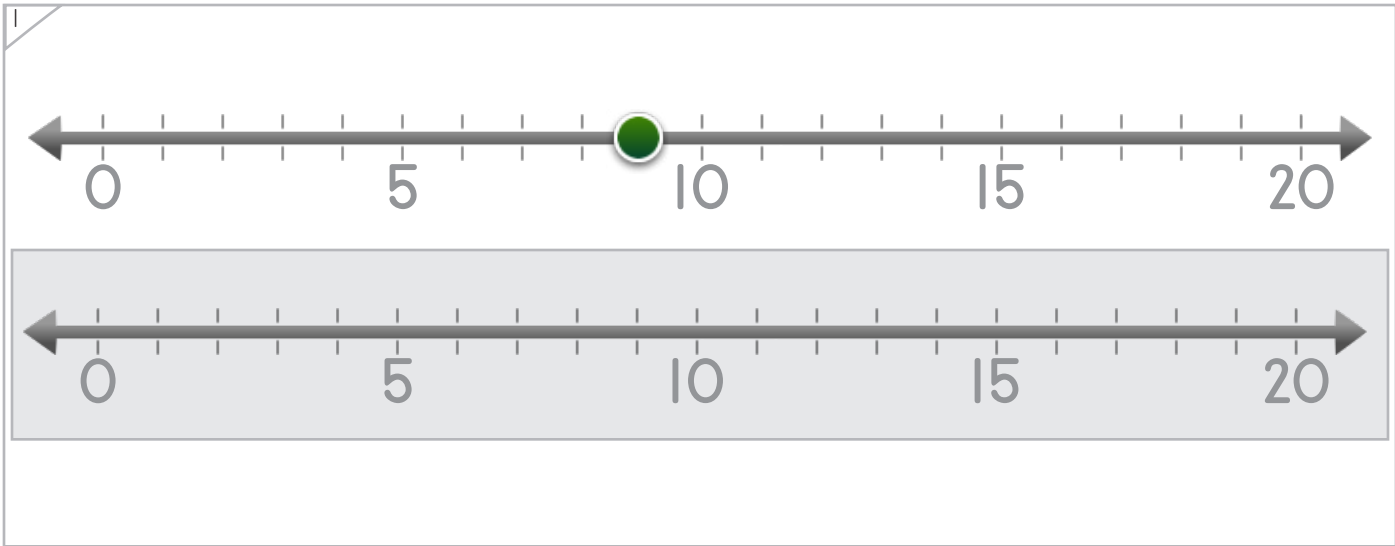



Nombre: \_\_\_\_\_ Fecha: \_\_\_\_\_



Coloca el punto en la recta numérica que sea IGUAL.

Ejemplo



Copyright© 2017 Symphony Learning LLC. Se concede permiso para reproducir esta hoja para uso en el aula.

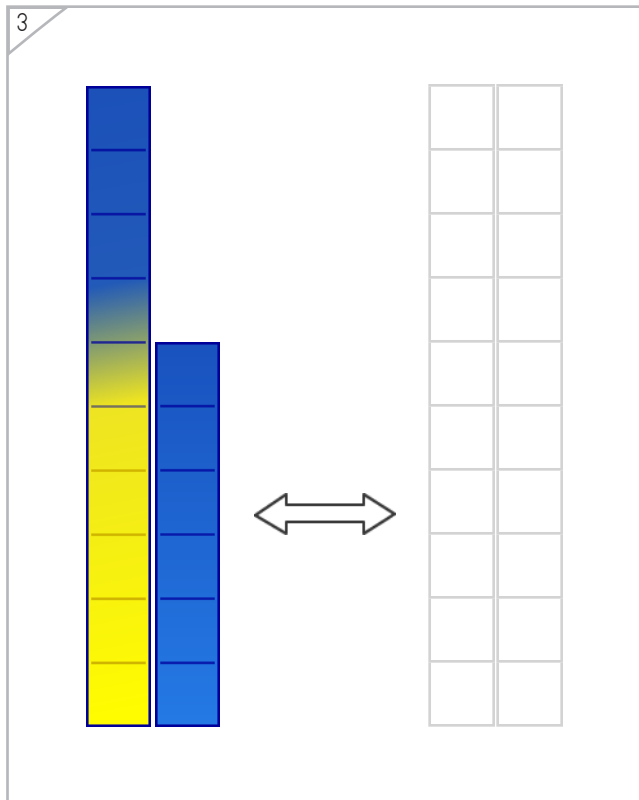
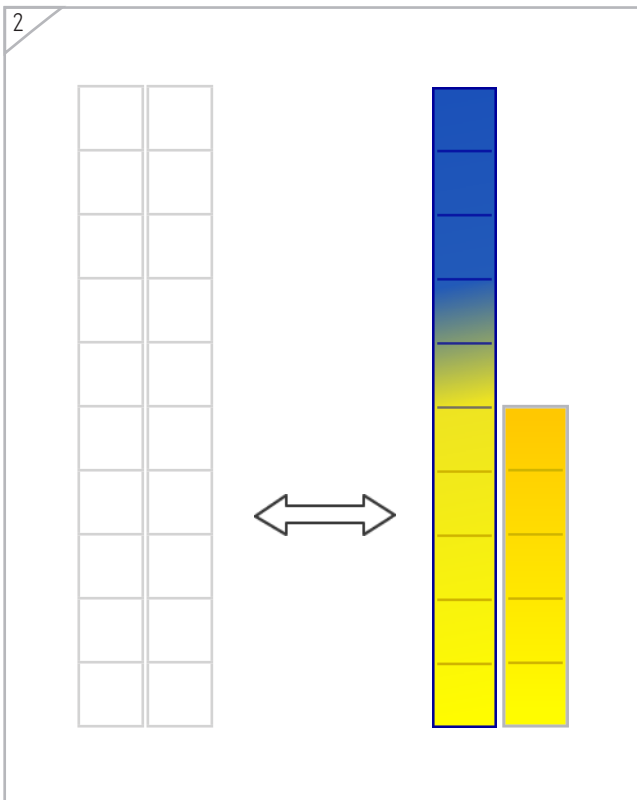
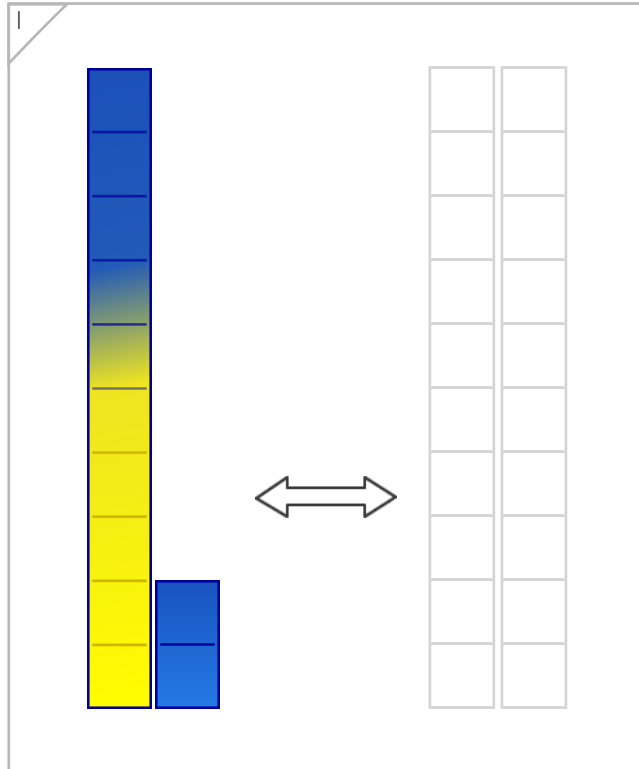
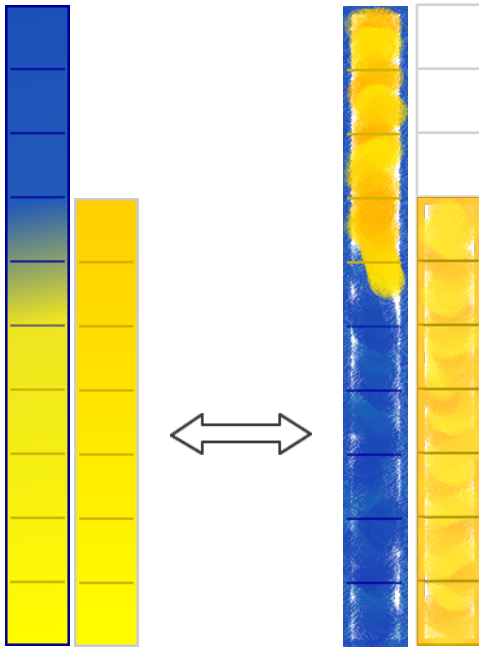




Manipulables

# Dibuja la barra que sea IGUAL.

Ejemplo





Dibuja las fichas y coloca los números que faltan.

Ejemplo

$17 = 17$

1

$19 = \square$

2

$\square = 13$

Copyright© 2017 Symphony Learning LLC. Se concede permiso para reproducir esta hoja para uso en el aula.




Nombre: \_\_\_\_\_ Fecha: \_\_\_\_\_




Manipulables y Símbolos

Coloca los puntos y los números de la recta numérica.

Ejemplo



$$12 = \boxed{12}$$




$$7 = \boxed{\phantom{00}}$$

Copyright© 2017 Symphony Learning LLC. Se concede permiso para reproducir esta hoja para uso en el aula.



Nombre: \_\_\_\_\_ Fecha: \_\_\_\_\_



Manipulables y Símbolos

Coloca los puntos y los números de la recta numérica.

1

0 5 10 15 20

0 5 10 15 20

16 =

2

0 5 10 15 20

0 5 10 15 20

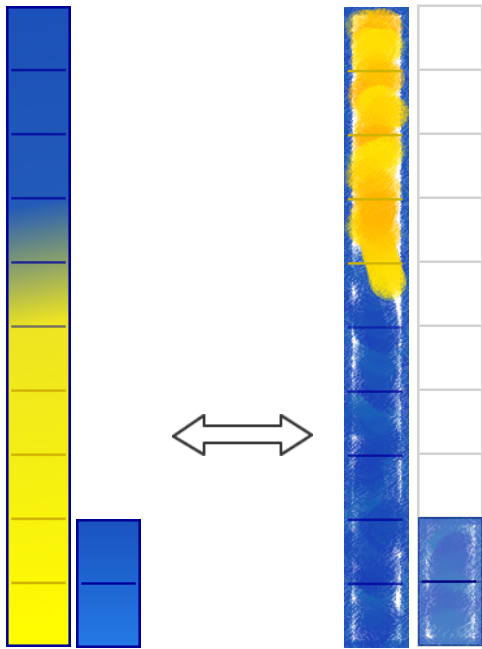
= 8

Copyright© 2017 Symphony Learning LLC. Se concede permiso para reproducir esta hoja para uso en el aula.

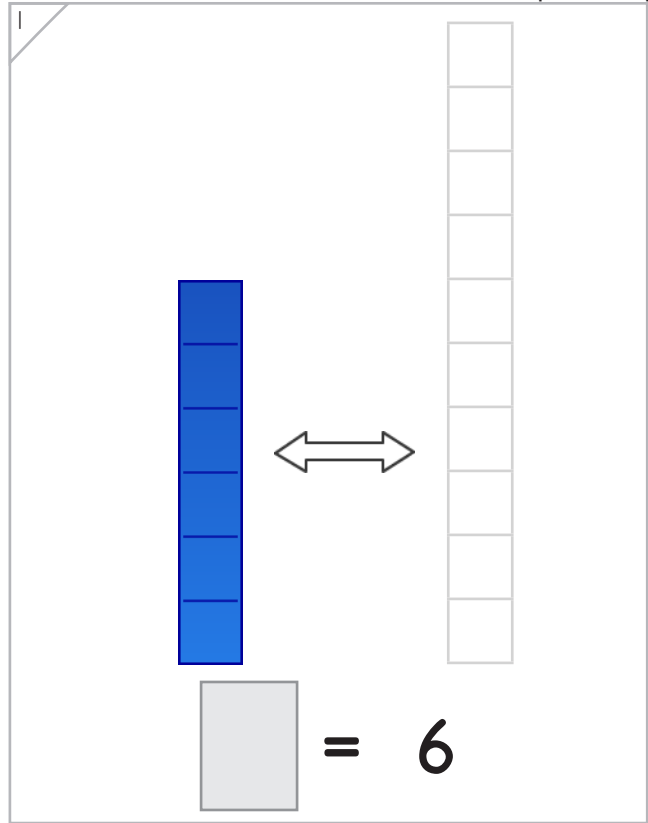


Coloca los números y dibuja las barras que sean iguales.

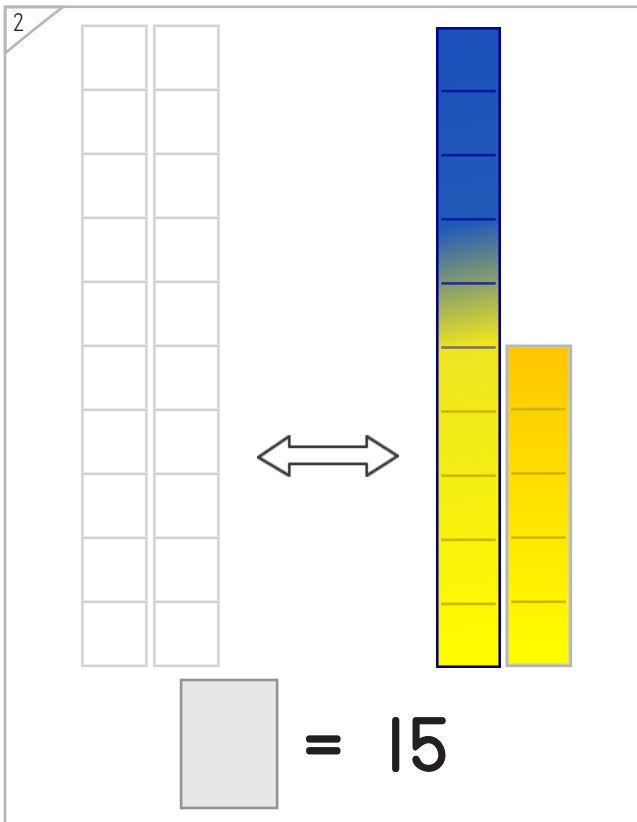
Ejemplo



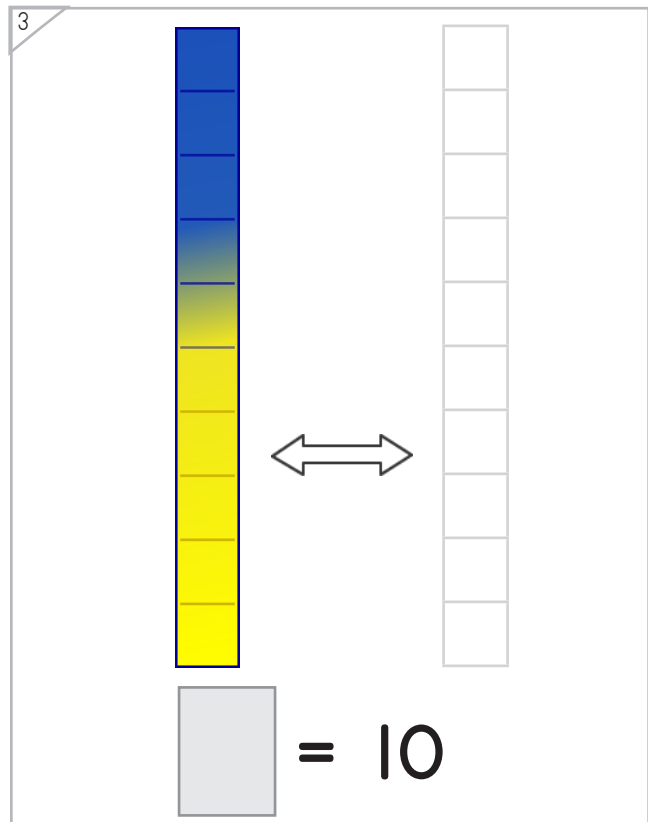
$$12 = 12$$



$$\square = 6$$



$$\square = 15$$



$$\square = 10$$





Llena los espacios para que las comparaciones sean ciertas.

12 <input type="text"/> 12	9 = <input type="text"/>
<input type="text"/> = 16	4 <input type="text"/> 4
14 = <input type="text"/>	<input type="text"/> = 10
13 = <input type="text"/>	<input type="text"/> = 5
<input type="text"/> = 7	0 <input type="text"/> 0
11 <input type="text"/> 11	18 = <input type="text"/>
3 <input type="text"/> <input type="text"/>	<input type="text"/> <input type="text"/> 15





Llena los espacios para que las comparaciones sean ciertas.

14 <input type="text"/> 14	7 = <input type="text"/>
<input type="text"/> = 10	13 <input type="text"/> 13
15 = <input type="text"/>	<input type="text"/> = 1
18 = <input type="text"/>	<input type="text"/> = 2
<input type="text"/> = 17	0 <input type="text"/> 0
11 <input type="text"/> 11	19 = <input type="text"/>
6 <input type="text"/> <input type="text"/>	<input type="text"/> <input type="text"/> 12



Nombre: \_\_\_\_\_ Fecha: \_\_\_\_\_

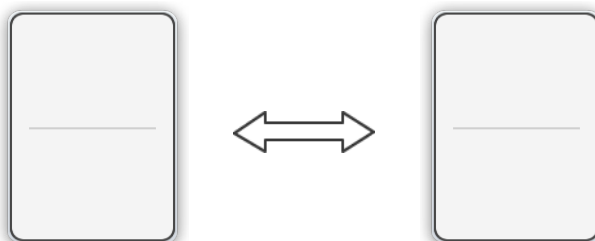


Problemas

Lee la historia.

Jorge leyó 9 páginas de un libro.  
Bety leyó 9 páginas de un libro.

Haz un modelo con fichas que explique la historia.



Escribe una comparación con números para tu modelo.

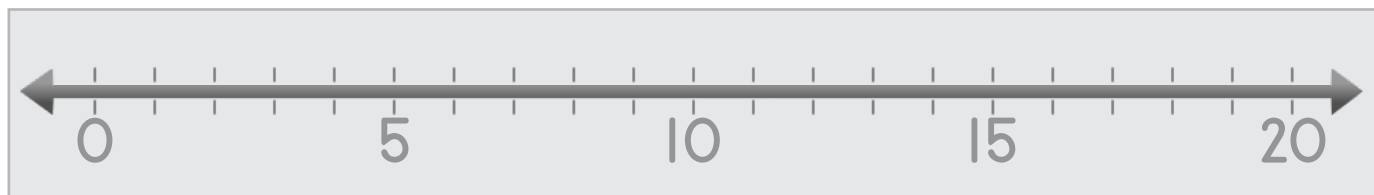





Lee la historia.

Judy comió 2 naranjas.  
Jorge comió 2 naranjas.

Haz un modelo con puntos que explique la historia.



Escribe una comparación con números para tu modelo.

