



Dibuja la ficha que falta.

Ejemplo



Empieza con esta ficha

Elimina ésta.

Queda esta ficha.

1

2

3



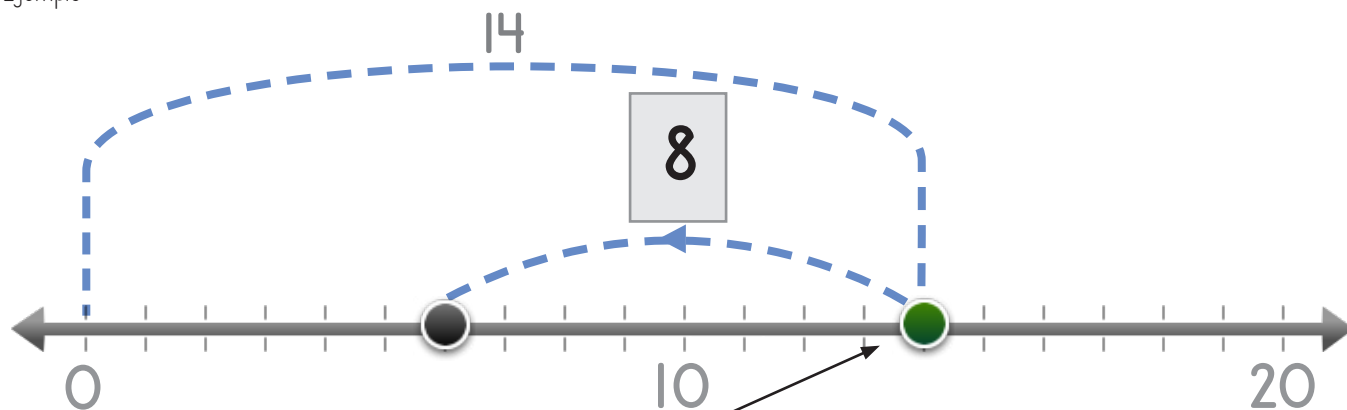
Nombre: _____ Fecha: _____



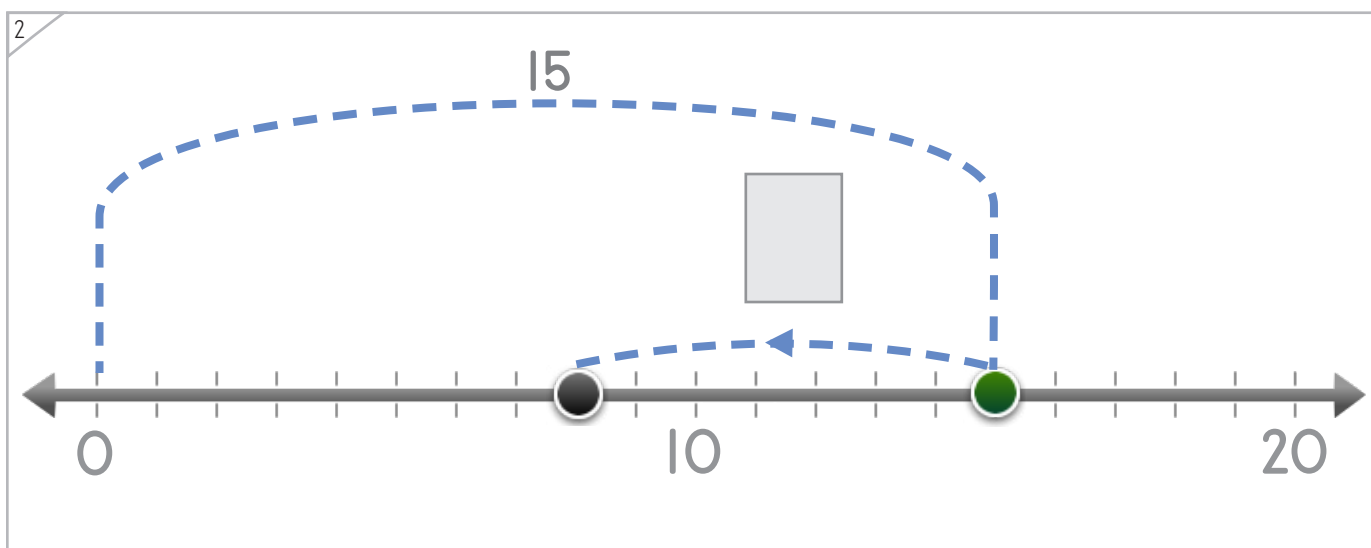
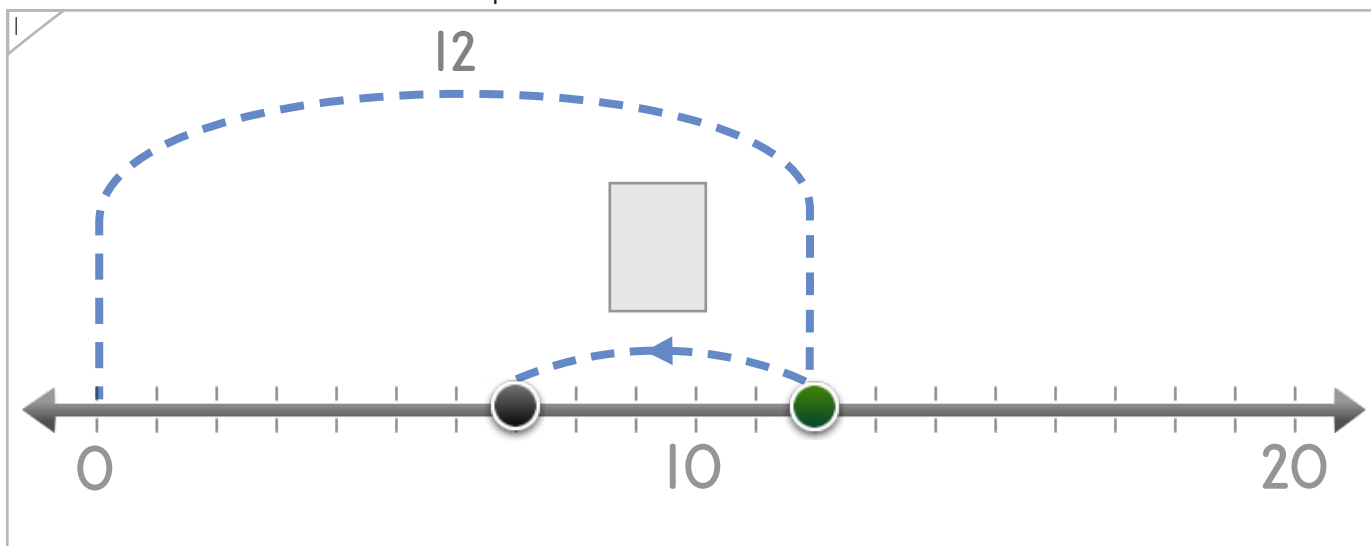
Manipulables

Coloca el punto que salta hacia atrás.

Ejemplo



Empieza en el 14. Salta 8 hacia Termina en el 6.



Copyright© 2017 Symphony Learning LLC. Se concede permiso para reproducir esta hoja para uso en el aula.

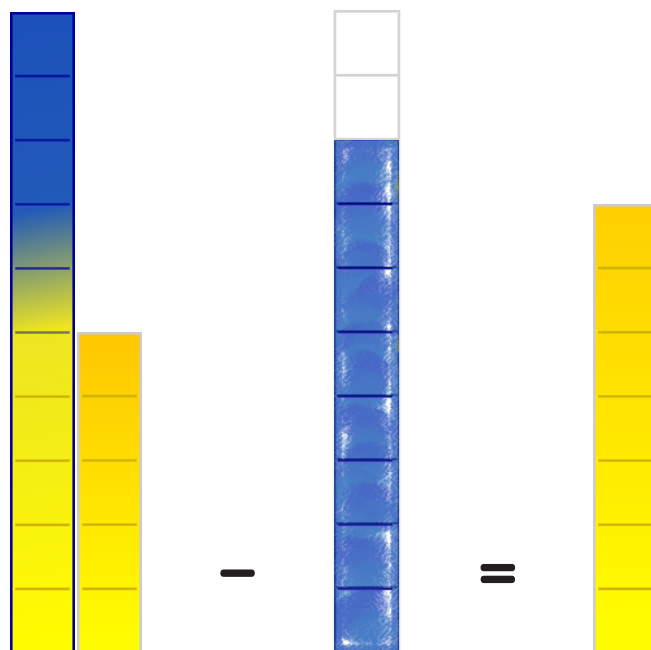


Dibuja la barra que falta.

Ejemplo



Manipulables



Empieza con esta barra. Elimina ésta. Queda esta barra.

Empieza con esta barra. Elimina ésta. Queda esta barra.





Manipulables

Dibuja la barra que falta.

1

Empieza con esta barra. Elimina ésta. Queda esta


2

Empieza con esta barra. Elimina ésta. Queda esta barra.




Coloca los números y dibuja las fichas que faltan para completar las operaciones.

1



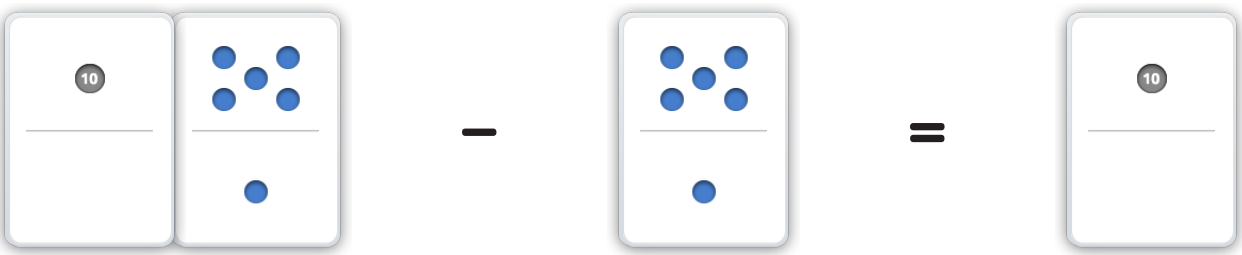
$$10 - \square = 6$$

2



$$\square = \square - 8$$

3



$$\square - \square = \square$$


Coloca los números y dibuja las fichas que faltan.



Manipulables y Símbolos

1

12

0 10 20

12 - = 4

2

12

0 10 20

12 - = 5


3

20

0 10 20

20 = -





Coloca los números y dibuja las barras que faltan.

1

$14 - \square = 5$

2

$18 - \square = 9$

3

$\square = \square - \square$

4

$\square - 7 = 4$





Completa las operaciones.

$14 - \square = 3$	$15 - 7 = \square$
$0 + 5 = \square$	$\square - 8 = 3$
$6 = 11 - \square$	$12 + \square = 15$
$18 - 9 = \square$	$14 - 9 = \square$
$13 - \square = 4$	$8 + \square = 16$
$14 - 6 = \square$	$\square - 0 = 7$
$9 - \square = \square$	$\square - 8 = \square$







Lee la historia.

Tomás tiene 9 juguetes. Le dio algunos a Ana. Le quedaron 3 juguetes. ¿Cuántos juguetes le dio Tomás a Ana?

Haz un modelo con fichas que explique la historia.



Escribe una operación para tu modelo.



Respuesta: _____

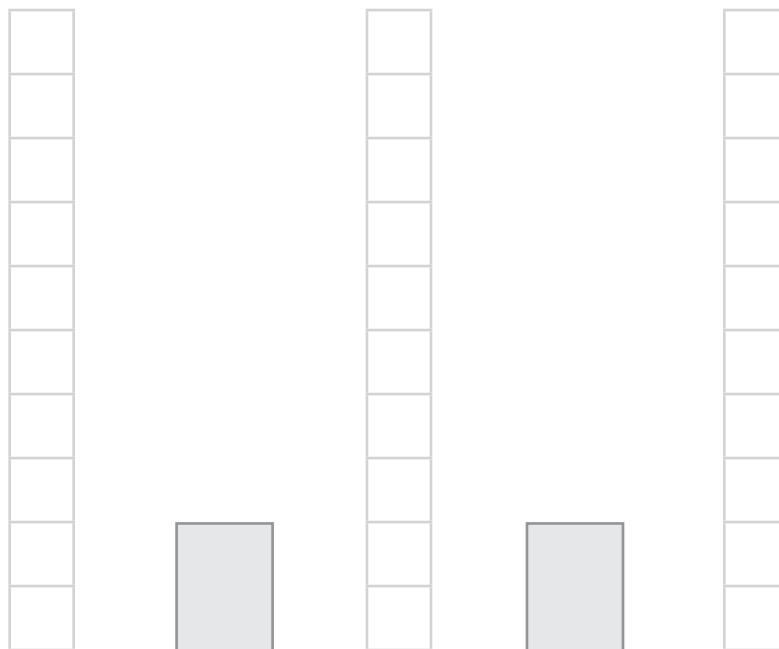





Lee la historia.

Jorge tiene 8 marcadores. Le prestó algunos a Lisa. Le quedaron 5 marcadores. ¿Cuántos marcadores le prestó Jorge a Lisa?

Haz un modelo con barras que explique la historia.



Escribe una operación para tu modelo.



Respuesta: _____

