


Nombre: _____ Fecha: _____



Manipulables

Dibuja la ficha que sea "10 más".

Ejemplo



1

2

3

4

Copyright© 2017 Symphony Learning LLC. Se concede permiso para reproducir esta hoja para uso en el aula.

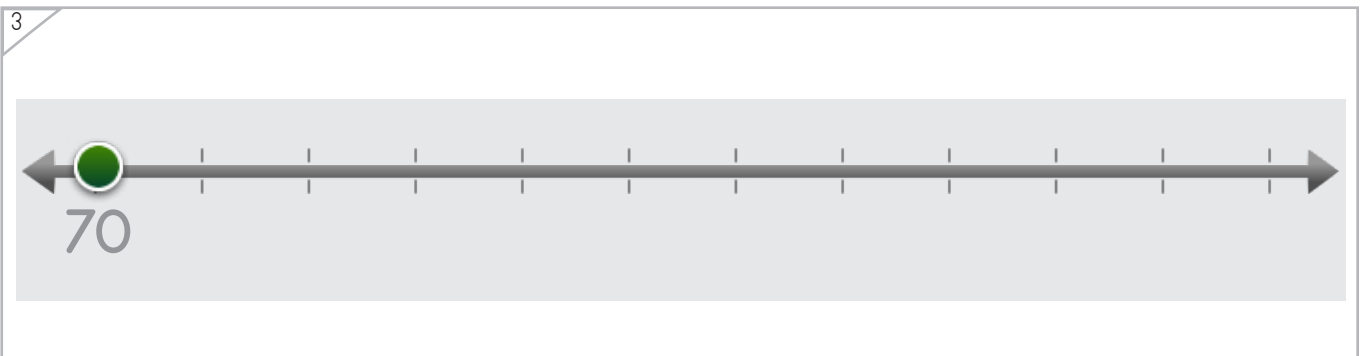
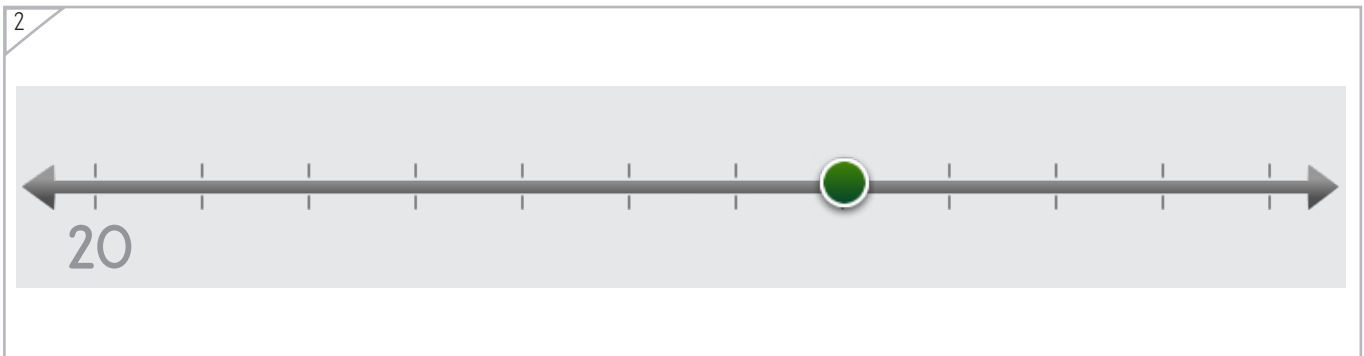
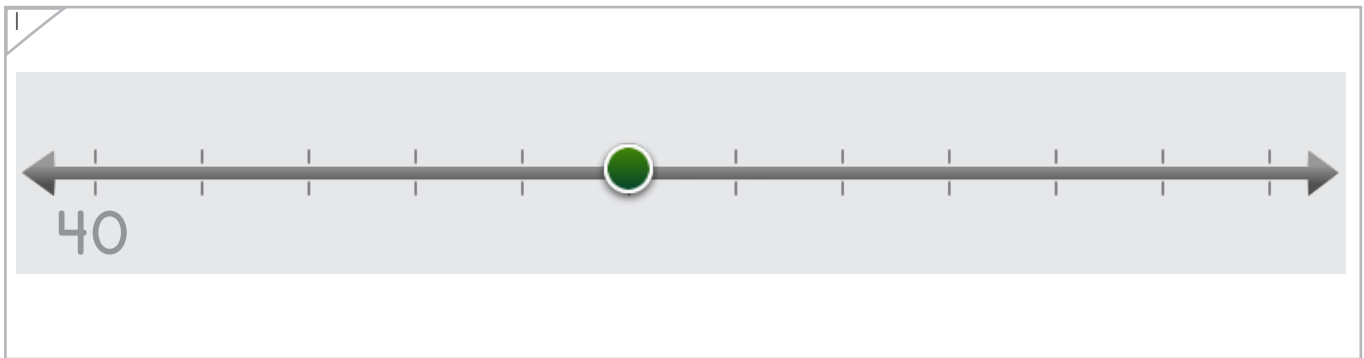
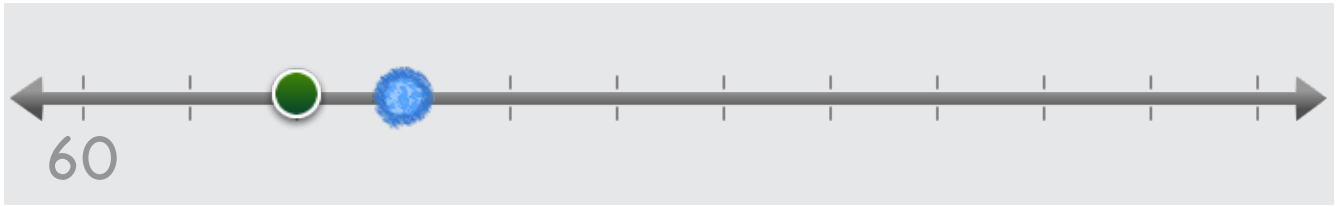


Nombre: _____ Fecha: _____



Dibuja en la recta numérica el punto que sea "10 más". Manipulables

Ejemplo



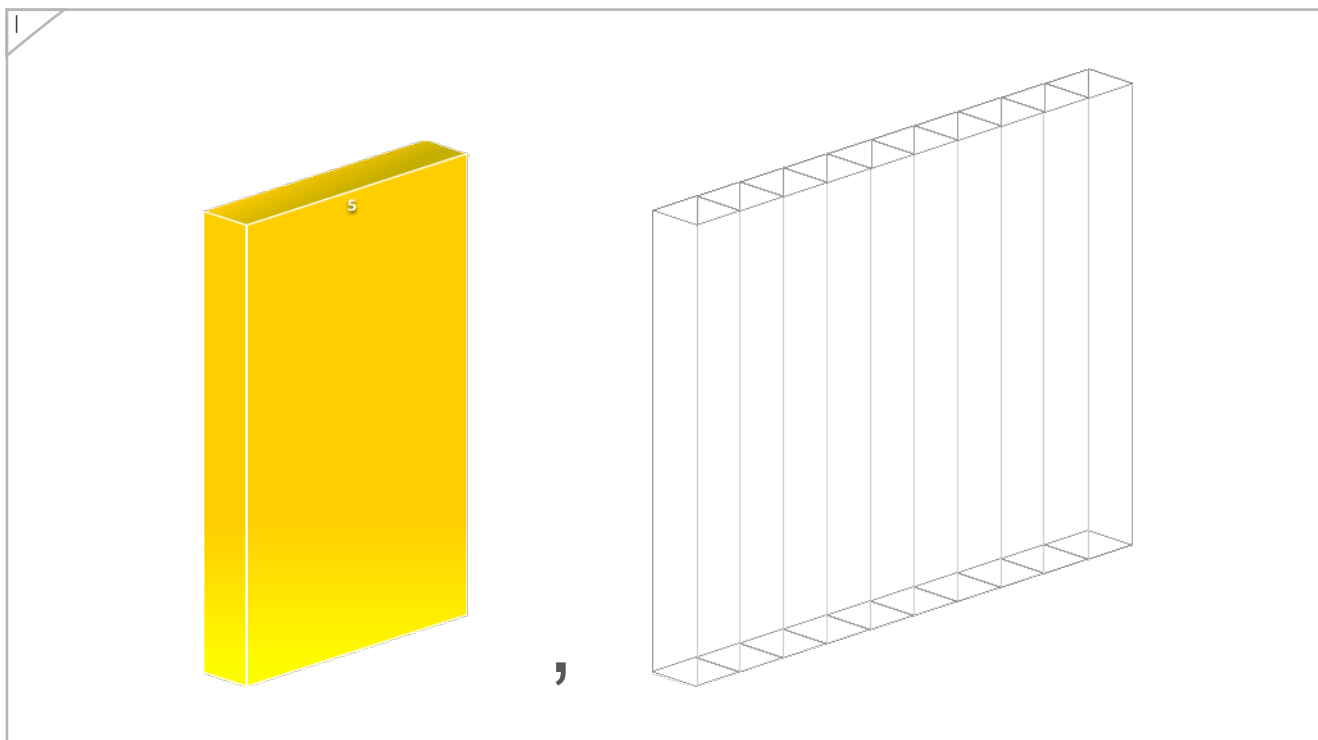
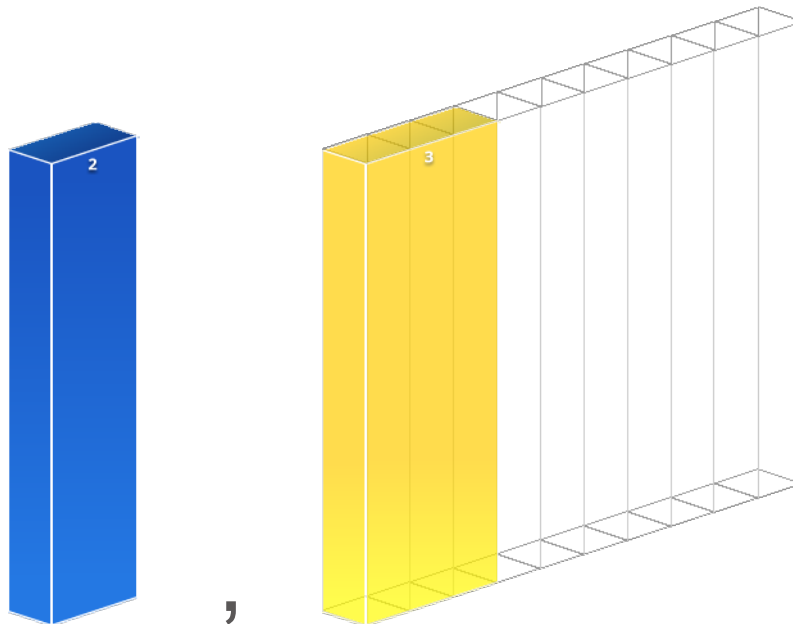
Copyright© 2017 Symphony Learning LLC. Se concede permiso para reproducir esta hoja para uso en el aula.





Dibuja la barra que sea "10 más".

Ejemplo





Dibuja la barra que sea "10 más".

1

A yellow rectangular bar with the number 7 on top. To its right is a comma, and further right is a wireframe bar divided into 10 equal segments.

2

A blue rectangular bar with the number 4 on top. To its right is a comma, and further right is a wireframe bar divided into 10 equal segments.





Escribe el número que sea "10 más".

30	<input type="text"/>
----	----------------------

80	<input type="text"/>
----	----------------------

60	<input type="text"/>
----	----------------------

10	<input type="text"/>
----	----------------------

0	<input type="text"/>
---	----------------------

20	<input type="text"/>
----	----------------------

40	<input type="text"/>
----	----------------------

50	<input type="text"/>
----	----------------------





Escribe el número que sea "10 más".

70	<input type="text"/>
----	----------------------

0	<input type="text"/>
---	----------------------

20	<input type="text"/>
----	----------------------

10	<input type="text"/>
----	----------------------

50	<input type="text"/>
----	----------------------

30	<input type="text"/>
----	----------------------

60	<input type="text"/>
----	----------------------

80	<input type="text"/>
----	----------------------

