


Nombre: _____ Fecha: _____



Dibuja la ficha que sea "10 menos".

Ejemplo



1

2

3

4

Copyright© 2017 Symphony Learning LLC. Se concede permiso para reproducir esta hoja para uso en el aula.

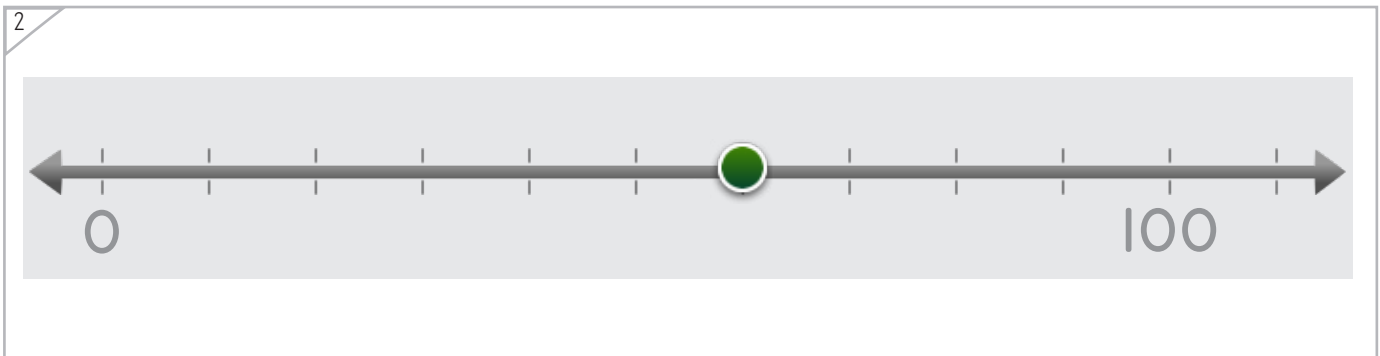
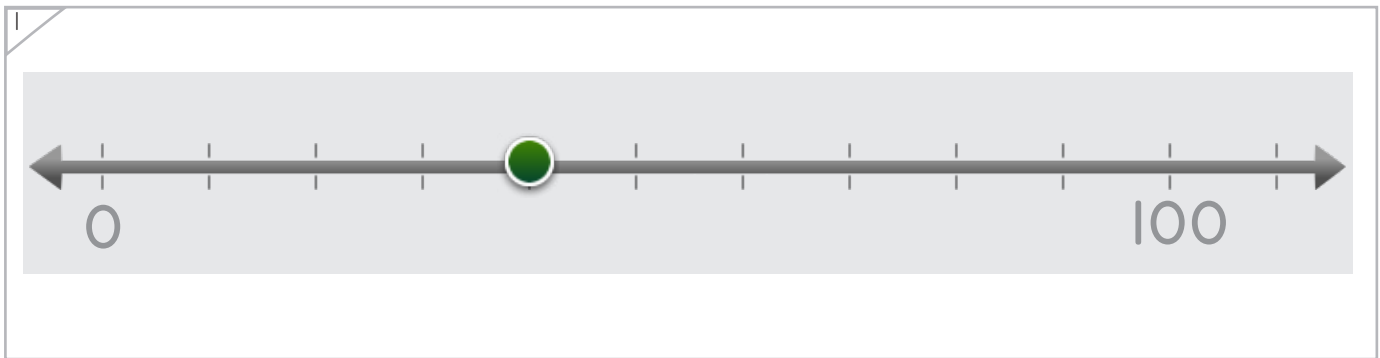
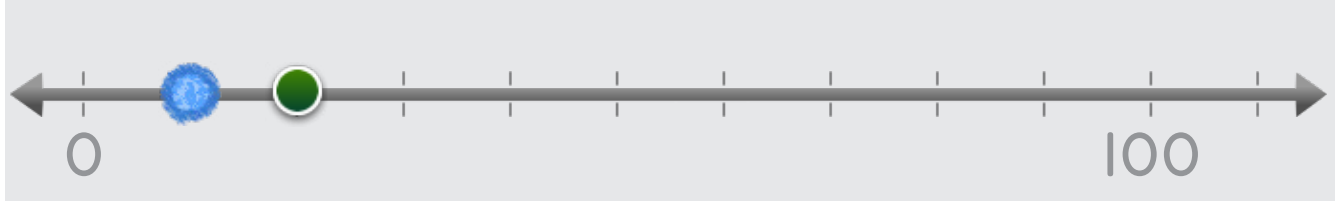


Nombre: _____ Fecha: _____



Dibuja el punto que sea "10 menos".

Ejemplo



Copyright© 2017 Symphony Learning LLC. Se concede permiso para reproducir esta hoja para uso en el aula.

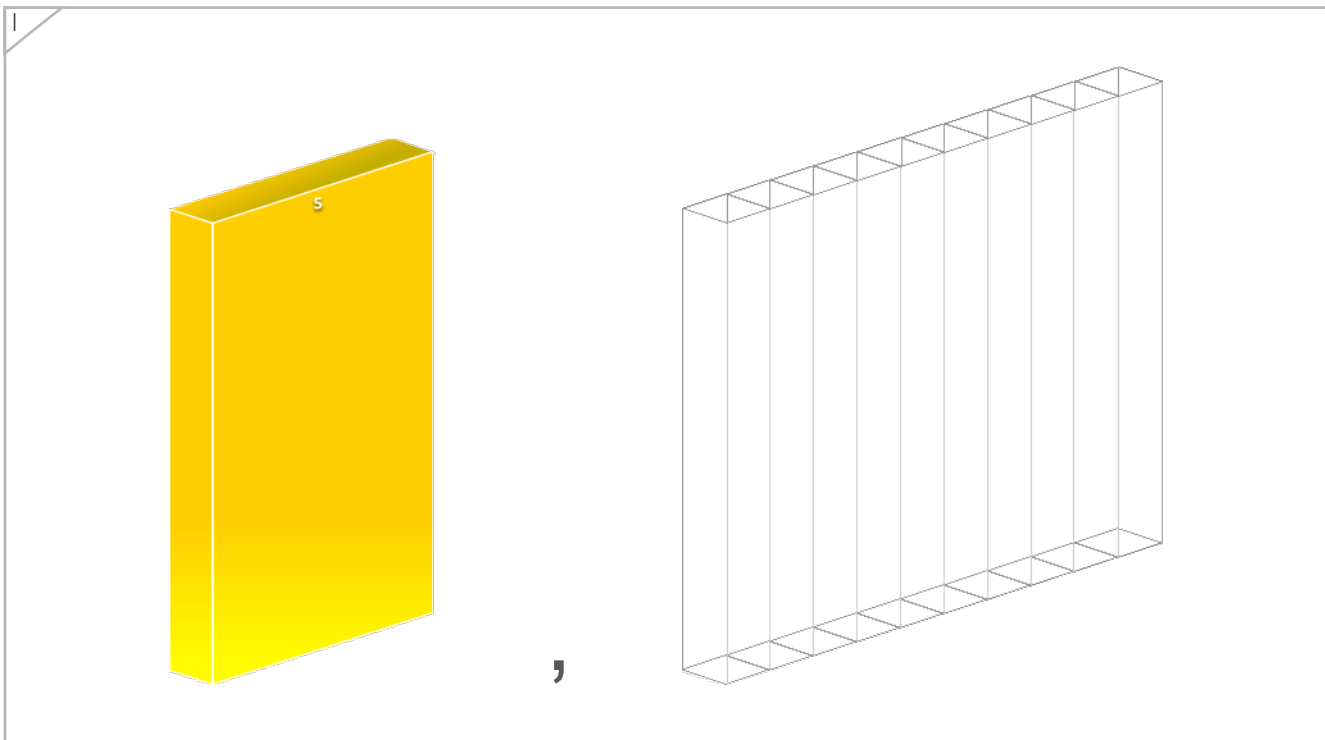
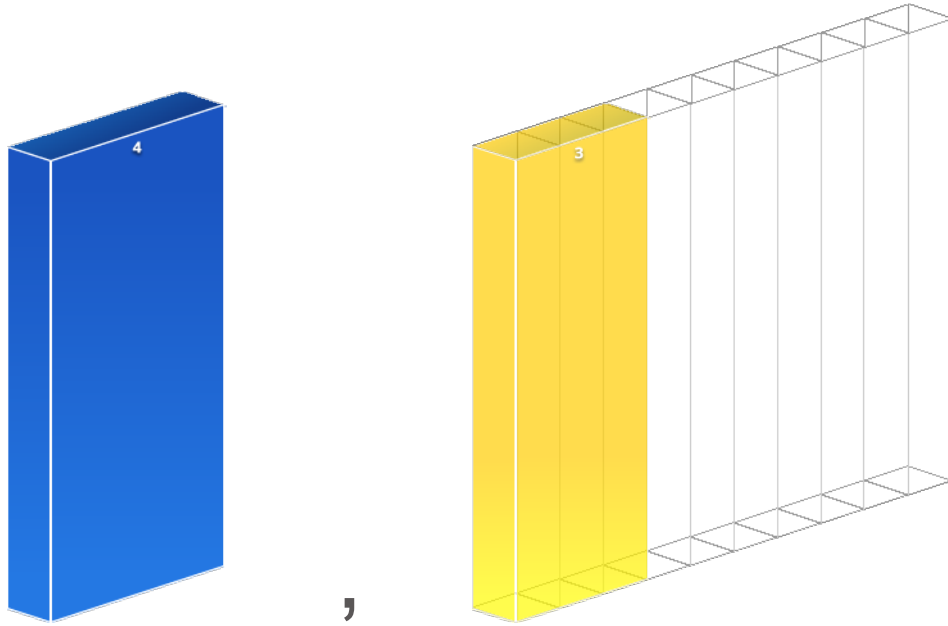


Nombre: _____ Fecha: _____



Dibuja la barra que sea "10 menos".

Ejemplo



Copyright© 2017 Symphony Learning LLC. Se concede permiso para reproducir esta hoja para uso en el aula.





Dibuja la barra que sea "10 menos".

1

A yellow rectangular bar is shown on the left with the number '7' written on its top surface. To its right is a wireframe bar divided into 7 equal segments. A comma is placed between the two bars.

2

A blue rectangular bar is shown on the left with the number '6' written on its top surface. To its right is a wireframe bar divided into 6 equal segments. A comma is placed between the two bars.



Nombre: _____ Fecha: _____



Símbolos

Escribe el número que sea "10 menos".

30

80

60

10

90

20

40

50



Nombre: _____ Fecha: _____



Símbolos

Escribe el número que sea "10 menos".

70	<input type="text"/>
----	----------------------

90	<input type="text"/>
----	----------------------

20	<input type="text"/>
----	----------------------

10	<input type="text"/>
----	----------------------

50	<input type="text"/>
----	----------------------

30	<input type="text"/>
----	----------------------

60	<input type="text"/>
----	----------------------

80	<input type="text"/>
----	----------------------

