



Dibuja la ficha que falta.

Ejemplo

$$\begin{array}{|c|} \hline 10 \quad 10 \quad 10 \\ \hline \\ \hline \end{array} + \begin{array}{|c|} \hline 10 \quad 10 \quad 10 \\ 10 \quad 10 \\ \hline 10 \quad 10 \\ \hline \end{array} = \begin{array}{|c|} \hline 100 \\ \hline \\ \hline \end{array}$$

1

$$\begin{array}{|c|} \hline \\ \hline \\ \hline \end{array} + \begin{array}{|c|} \hline 10 \quad 10 \quad 10 \\ 10 \quad 10 \\ \hline 10 \quad 10 \quad 10 \\ \hline \end{array} = \begin{array}{|c|} \hline 100 \\ \hline \\ \hline \end{array}$$

2

$$\begin{array}{|c|} \hline 100 \\ \hline \\ \hline \end{array} = \begin{array}{|c|} \hline \\ \hline \\ \hline \end{array} + \begin{array}{|c|} \hline 10 \quad 10 \quad 10 \\ 10 \quad 10 \\ \hline 10 \quad 10 \\ \hline \end{array}$$

3

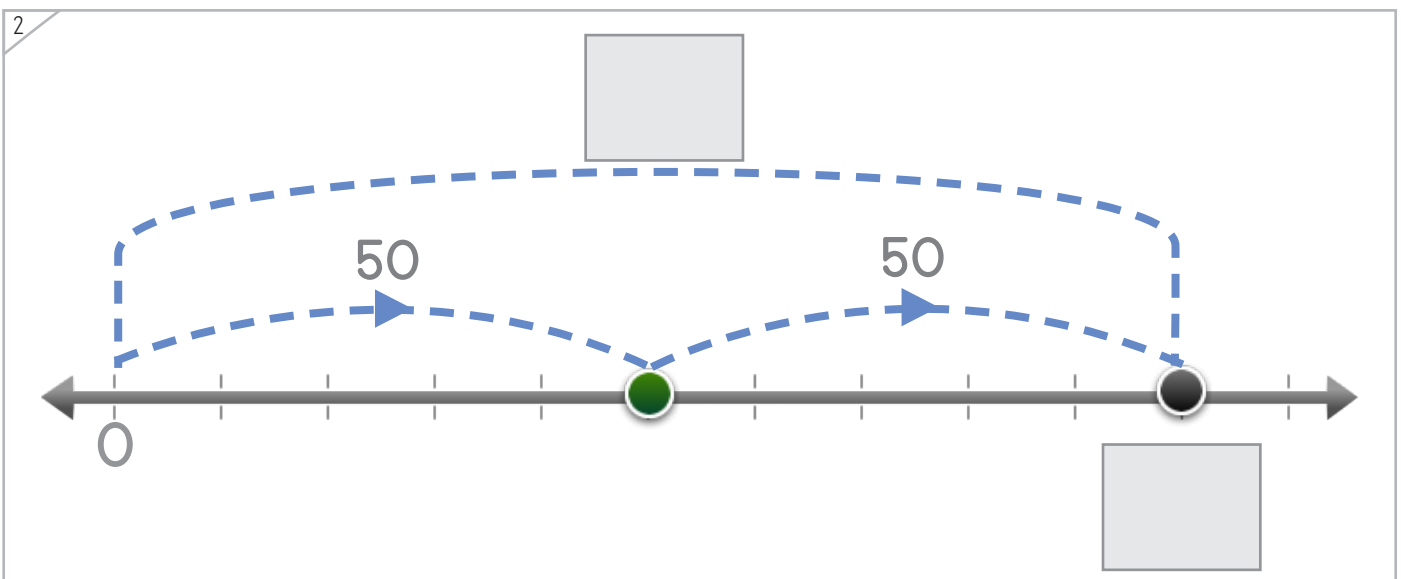
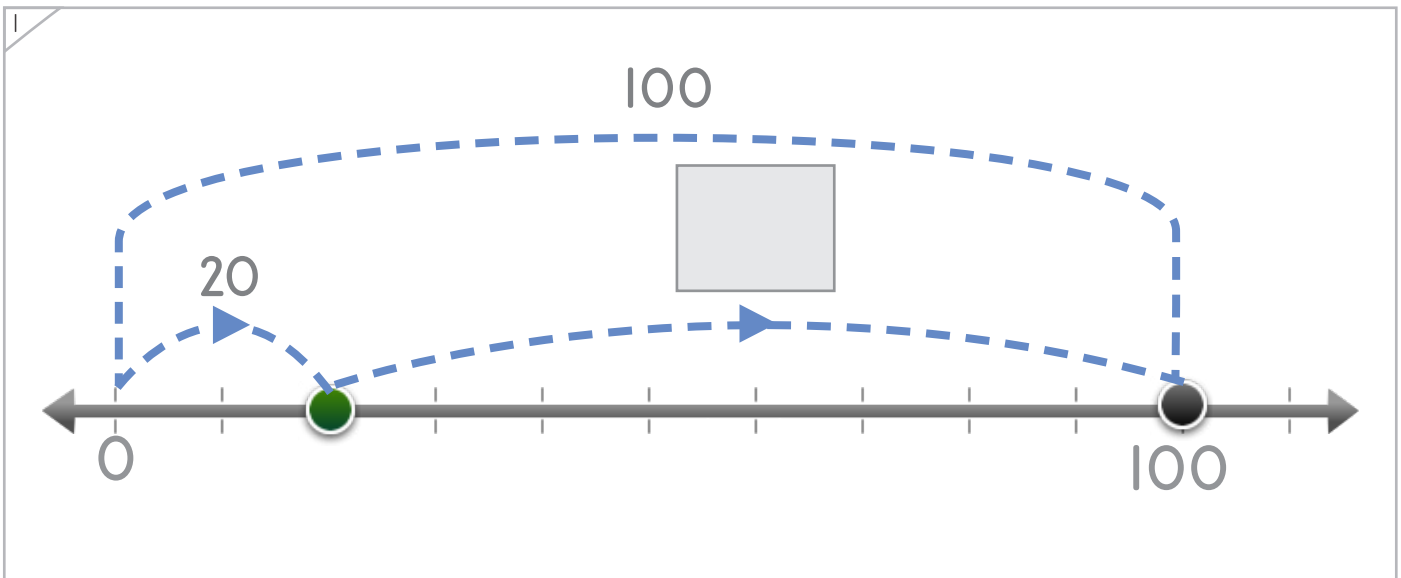
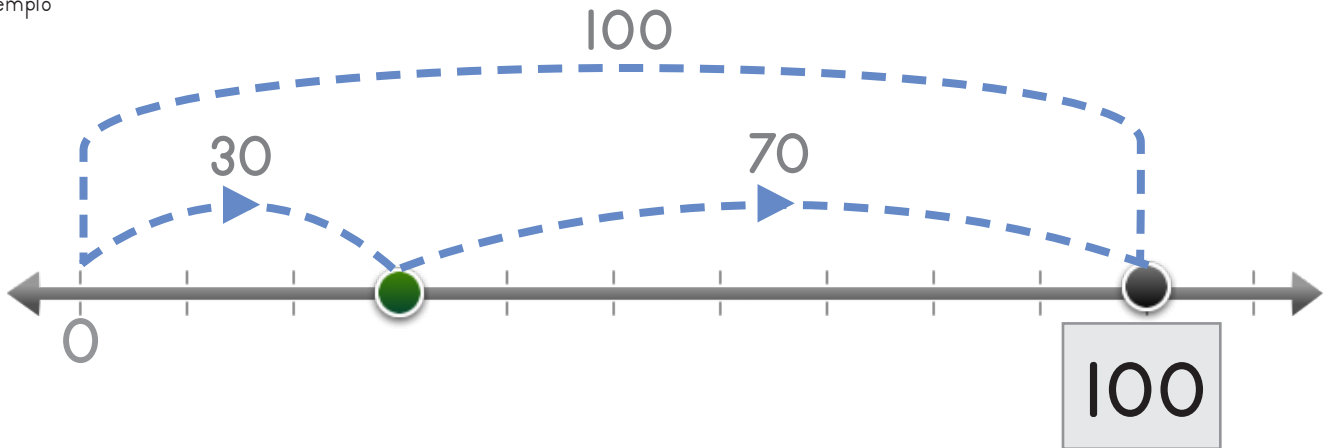
$$\begin{array}{|c|} \hline \\ \hline \\ \hline \end{array} + \begin{array}{|c|} \hline 10 \quad 10 \quad 10 \\ 10 \quad 10 \\ \hline 10 \\ \hline \end{array} = \begin{array}{|c|} \hline 100 \\ \hline \\ \hline \end{array}$$





Escribe los números que faltan.

Ejemplo

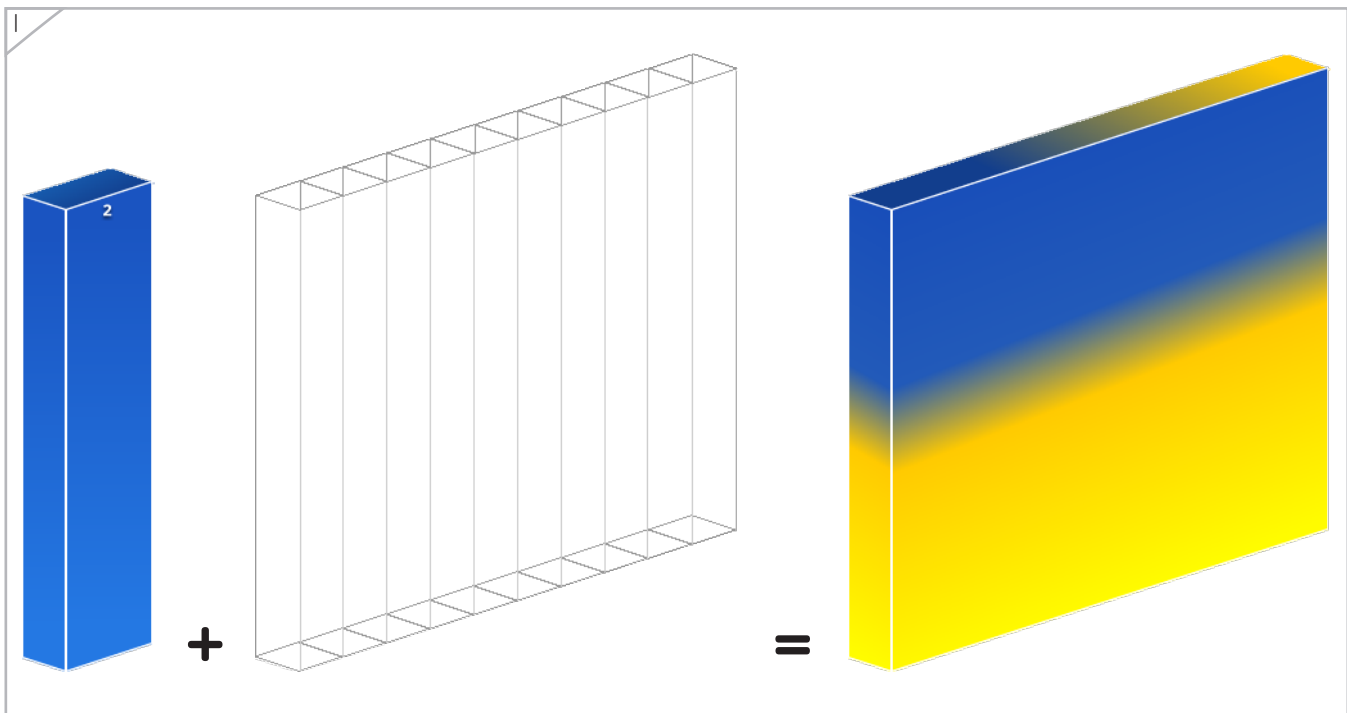
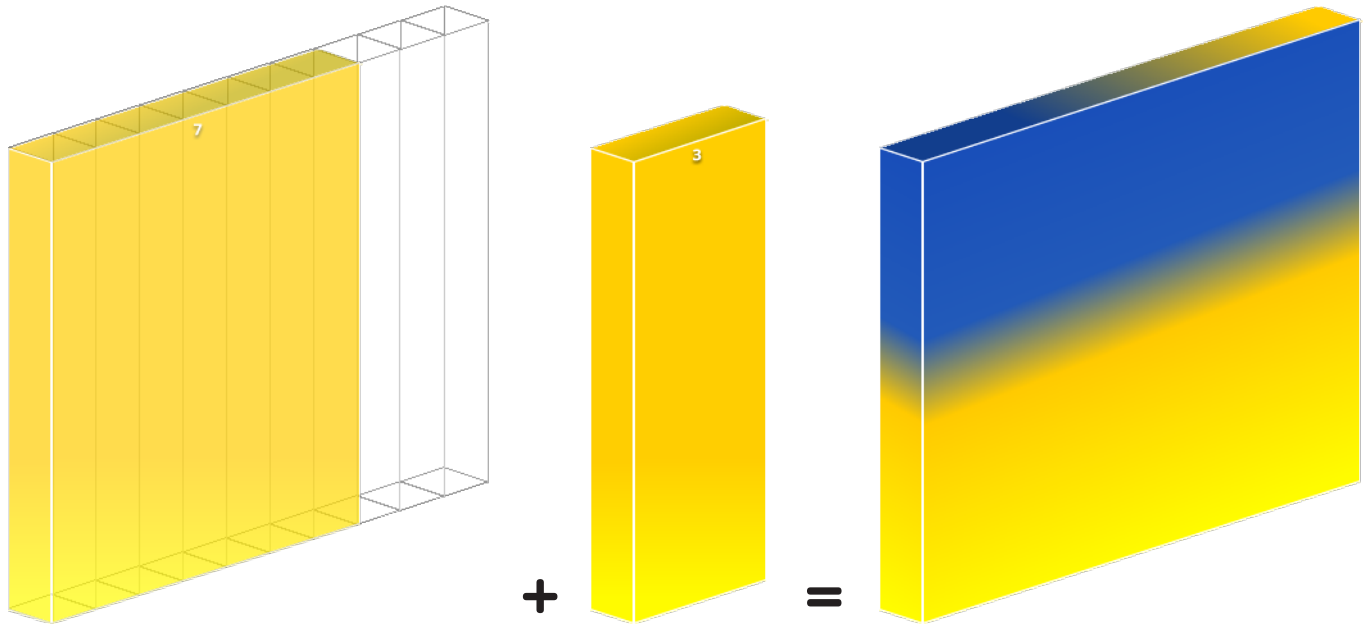




Manipulables

Dibuja la barra que falta.

Ejemplo



Copyright© 2017 Symphony Learning LLC. Se concede permiso para reproducir esta hoja para uso en el aula.





Dibuja las fichas y coloca los números que faltan para completar cada operación.

1

+=

100

+
0
=

2

=+

10

100
=
90
+
10

3

10
10
10
10

10
10
10

+

10
10

=

+=
100





Escribe los números que faltan.

1

$\square + \square = \square$

2

$90 + \square = \square$



Nombre: _____ Fecha: _____

Dibuja las barras y coloca los números para completar cada operación.



Manipulables y Símbolos

1

+ 2 =

+ 20 = 100

2

+ =

+ 50 = 100

Copyright© 2017 Symphony Learning LLC. Se concede permiso para reproducir esta hoja para uso en el aula.





Completa cada operación.

$10 + 90 = \square$	$100 + 0 = \square$
---------------------	---------------------

$100 = \square + 30$	$\square = 50 + 50$
----------------------	---------------------

$\square + 70 = 100$	$\square + 40 = 100$
----------------------	----------------------

$0 + \square = \square$	$30 + \square = \square$
-------------------------	--------------------------





Completa cada operación.

$10 + 90 = \square$	$30 + 70 = \square$
$\square + 20 = 100$	$\square + 10 = 100$
$\square = 70 + 30$	$40 + 60 = \square$
$20 + \square = 100$	$100 = \square + 30$
$\square + 30 = 100$	$\square + 60 = 100$
$\square = 50 + 50$	$90 + \square = 100$
$0 + \square = \square$	$30 + \square = \square$

