
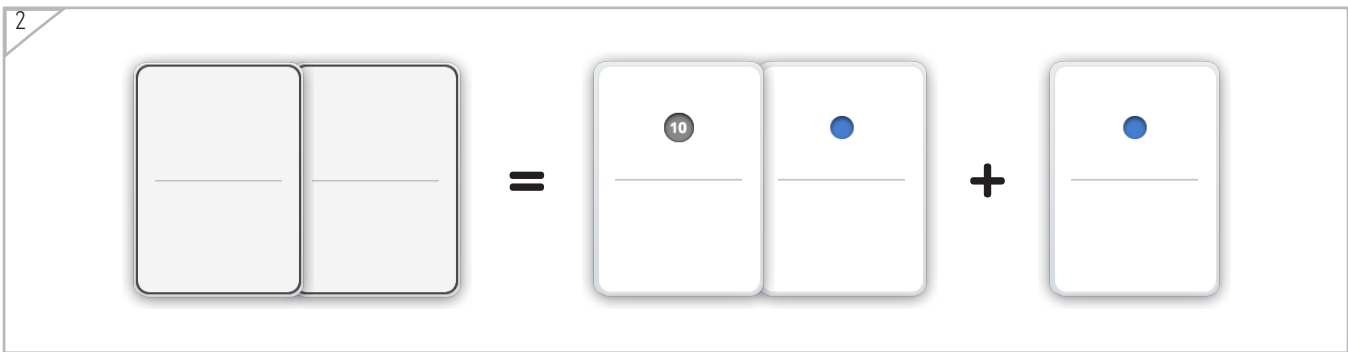




Nombre: \_\_\_\_\_ Fecha: \_\_\_\_\_

Dibuja la ficha que sea lo mismo que las otras dos juntas.



Ejemplo

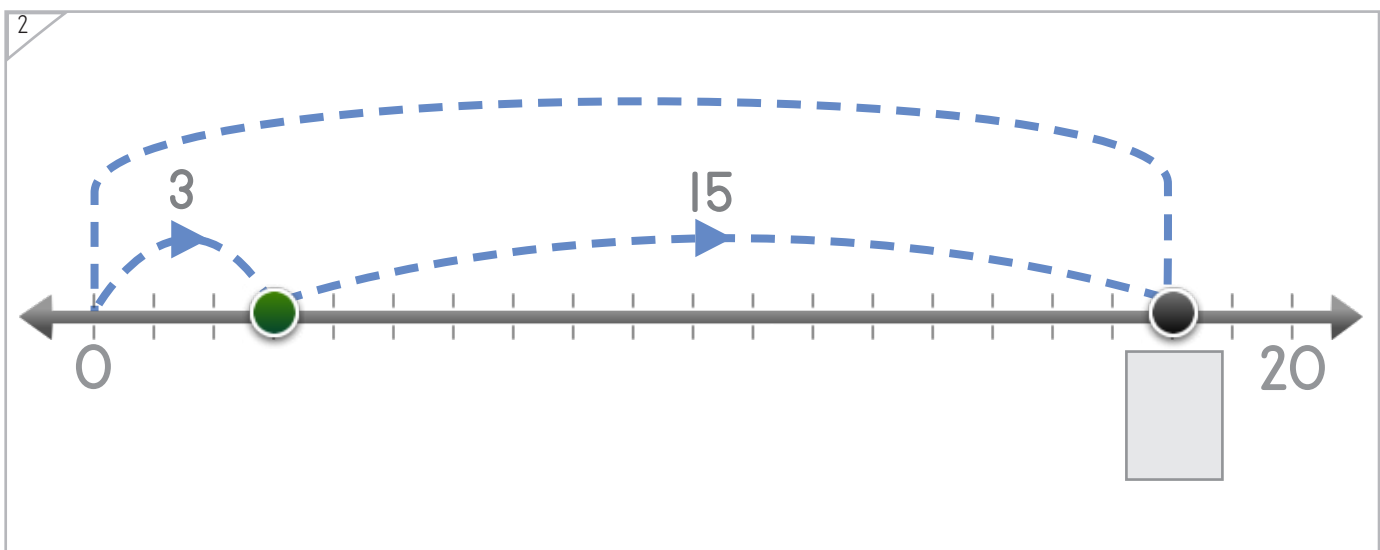
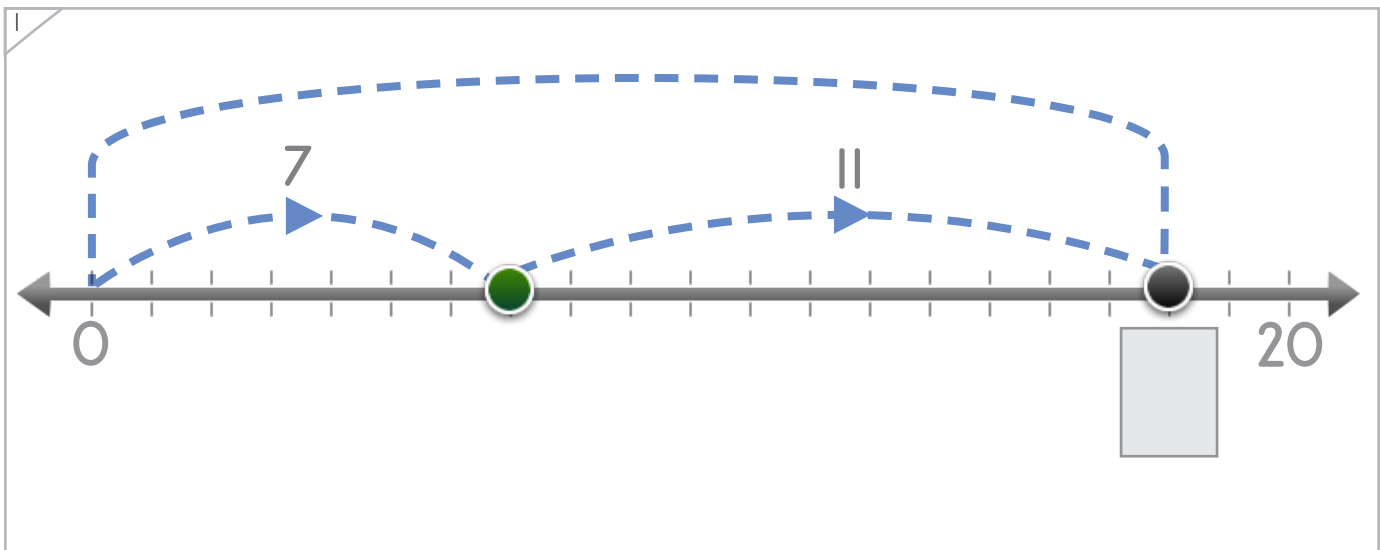
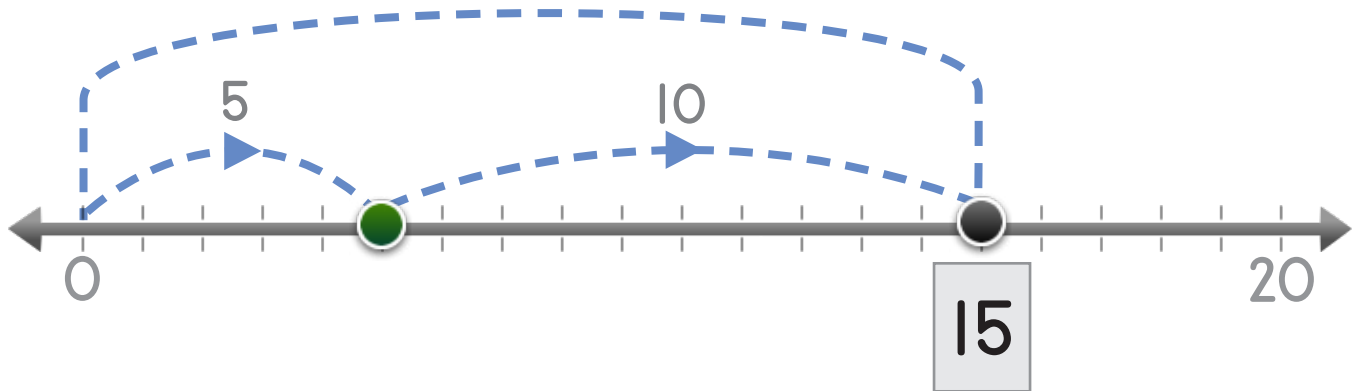


Nombre: \_\_\_\_\_ Fecha: \_\_\_\_\_

El punto salta dos veces. Escribe el número en donde el punto cae.



Ejemplo



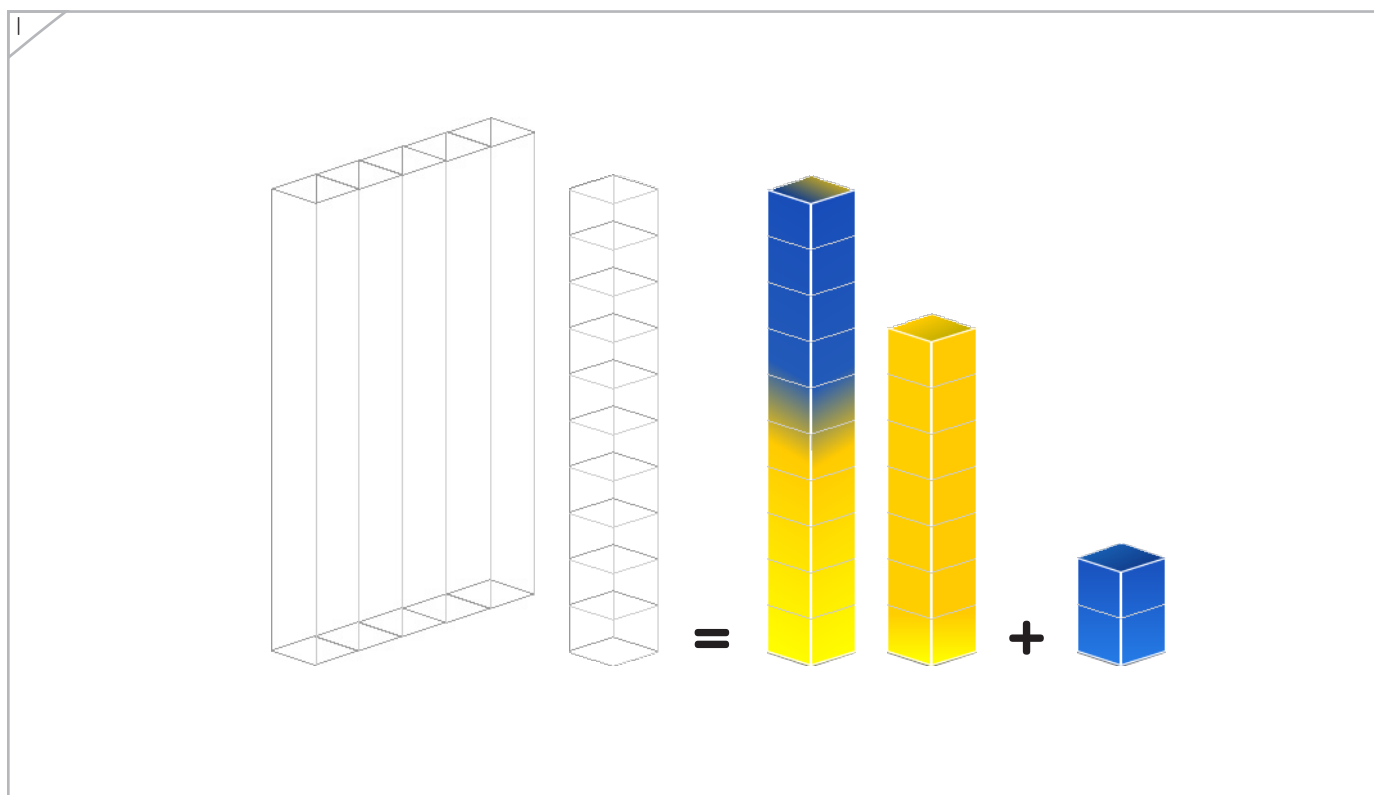
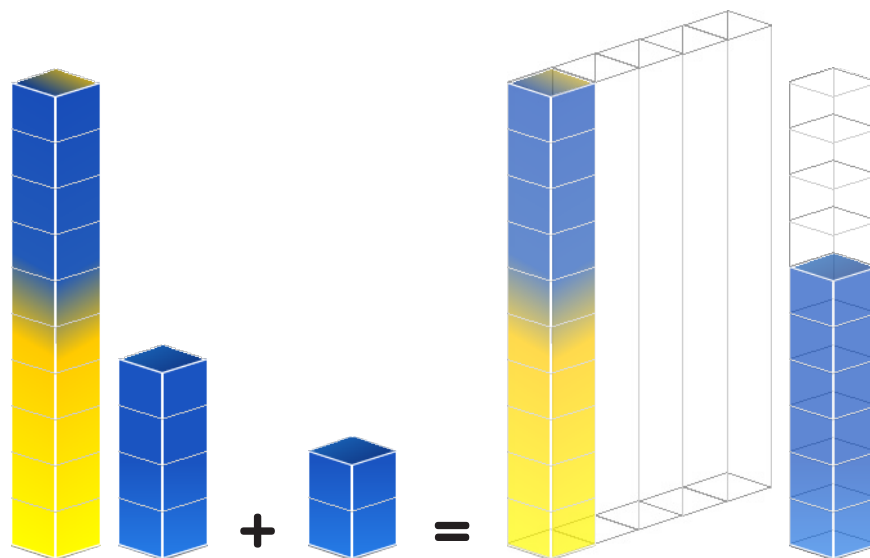
Copyright© 2017 Symphony Learning LLC. Se concede permiso para reproducir esta hoja para uso en el aula.





Dibuja la barra que sea lo mismo que las otras dos juntas.

Ejemplo





Coloca los números y dibuja las fichas que faltan.

1

$$\square + 3 = 19$$

2

$$12 + 1 = 13$$

3

$$18 = \square + \square$$




Coloca en la recta numérica los puntos y los números que faltan.

1

$[ ] + [ ] = 19$

2

$3 + [ ] = 17$



Dibuja las barras y coloca los números para completar cada

1

$10 + 9 = \square$

2

$14 = \square + 2$





Completa cada operación.

|                          |                          |
|--------------------------|--------------------------|
| $\square = 13 + 3$       | $11 + 2 = \square$       |
| $12 + 2 = \square$       | $14 + 1 = \square$       |
| $17 + 1 = \square$       | $\square = 11 + 7$       |
| $0 + 18 = \square$       | $6 + 10 = \square$       |
| $\square = 15 + 3$       | $17 + 2 = \square$       |
| $12 + 3 = \square$       | $\square = 16 + 3$       |
| $14 + \square = \square$ | $18 + \square = \square$ |





Completa cada operación.

|                          |                          |
|--------------------------|--------------------------|
| $\square = 9 + 10$       | $13 + 2 = \square$       |
| $12 + 6 = \square$       | $14 + 5 = \square$       |
| $11 + 1 = \square$       | $\square = 0 + 13$       |
| $8 + 10 = \square$       | $17 + 2 = \square$       |
| $\square = 15 + 3$       | $11 + 2 = \square$       |
| $16 + 3 = \square$       | $\square = 1 + 4$        |
| $12 + \square = \square$ | $10 + \square = \square$ |






Lee la historia.

Elena hizo 13 bolas de nieve. Víctor hizo 4.  
¿Cuántas bolas de nieve tienen los dos juntos?

Haz un modelo con fichas que explique la historia.



Escribe una operación para tu modelo.

$$\square + \square = \square$$

Respuesta: \_\_\_\_\_





Jim leyó un libro durante 16 minutos.

Jim leyó un libro durante 16 minutos.  
Donna leyó durante 3 minutos.  
¿Cuántos minutos leyeron los dos juntos?

Haz un modelo con puntos que explique la historia.



Haz una operación para tu modelo.

$$\square + \square = \square$$

Respuesta: \_\_\_\_\_

